



Г.Б. Громоковский, В.Г. Браудо

издательство  
**За рулем**

# ТЕСТЫ НА ЗНАНИЕ ПРАВИЛ ДОРОЖНОГО ДВИЖЕНИЯ



**CONSOL**

МОТОРНЫЕ МАСЛА  
ДЛЯ ВАШЕГО АВТОМОБИЛЯ



ОК 005-93; т.2; 953750  
УДК 656.13.05.001.25(038)  
ББК.39.808

Авторы: Г.Б. Громоковский, В.Г. Браудо

Рецензент канд. техн. наук М.Б. Афанасьев  
Редактор М.Ф. Теплов  
Художник В.В. Маслов

**Г87 Громоковский Г.Б., Браудо В.Г.**  
**Тесты на знание Правил дорожного движения — М.: Издательство «За рулем»,**  
**1998 — 48 с.: ил.**  
**ISBN 5-85907-116-7**

Издание содержит 24 теста. Каждый тест представляет собой «поездку» по дороге, на которой встретятся 20 дорожных ситуаций, относящихся к разделу Правил, указанному в названии теста. Ответы на поставленные в тестах вопросы, а также подробные комментарии к каждой дорожной ситуации расположены на обороте тестов. Начинаящий водитель сможет проверить, насколько хорошо он изучил основной закон, устанавливающий взаимоотношения на дороге. Водитель со стажем получит возможность совершенствовать свои знания Правил дорожного движения, а преподаватель автошколы (курсов) — проверить подготовку своих подопечных.

Книга предназначена в качестве пособия при изучении Правил дорожного движения, а также для практического их освоения во время обучения навыкам вождения при подготовке водителей категорий «В» и «С».

ББК 39.808

ISBN 5-85907-116-7

© Г.Б. Громоковский, В.Г. Браудо, 1997  
© Оформление, иллюстрации, Издательство "За рулем", 1997



Тест 1. ПРАВЫЕ УКАЗАТЕЛИ ПОВОРОТА

Укажите позиции, в которых на красном автомобиле должны быть включены правые указатели поворота?



## ТЕСТ 1. ПРАВЫЕ УКАЗАТЕЛИ ПОВОРОТА

## Правильные ответы:

Позиции автомобилей	1	2	4	5	7	9	11	12	14	15	16	19
---------------------	---	---	---	---	---	---	----	----	----	----	----	----

## КОММЕНТАРИИ К ТЕСТУ ПО ПОЗИЦИЯМ:

**1** Перед началом движения Вы обязаны включить указатели поворота (п. 8.1). Правые указатели поворота в данном случае уточняют направление Вашего дальнейшего движения.

**2** Знаки 2.1 “Главная дорога” и 7.13 “Направление главной дороги” свидетельствуют о наличии перекрестка, на котором Вы можете продолжить движение направо или налево. Включенные правые указатели поворота информируют водителя, приближающегося по главной дороге со встречного направления, о Вашем намерении повернуть направо (п. 8.1).

**3** Выполняя обгон, Вы только что выехали на полосу встречного движения. Включать правые указатели поворота в этой позиции преждевременно, так как у Вас еще нет возможности перестроиться вправо, чтобы завершить обгон.

**4** При завершении опережения обгоняемого транспортного средства у Вас появилась возможность перестроиться на правую полосу, о чем Вы должны заблаговременно проинформировать других участников движения (п. 8.1).

**5** Включая правые указатели поворота, Вы предупреждаете других участников движения о намерении съехать с дороги на примыкающую справа проезжую часть (п. 8.1).

**6** Въезжая на дорогу с использованием полосы разгона, не следует включать правые указатели поворота, так как, вливаясь в поток, Вы производите перестроение влево. Этому маневру должно предшествовать включение левых указателей поворота (п. 8.1).

**7** Вы приближаетесь к месту, где заканчивается Ваша полоса движения (знак 5.8.6 “Конец полосы”). Чтобы продолжить движение, Вам необходимо перестроиться на правую полосу и, следовательно, включить правые указатели поворота (п. 8.1). Следует помнить, что включенные указатели поворота не дают Вам права на первоочередное движение (п. 8.2) и поэтому Вы обязаны уступить дорогу транспортным средствам, движущимся попутно по соседней полосе.

**8** В данной ситуации у Вас нет причины включать правые указатели поворота — Вы не меняете своего положения на проезжей части и не въезжаете на пересекаемую проезжую часть (п. 8.1).

**9** Въезжая на перекресток с круговым движением (знак 4.3 “Круговое движение”), Вы совершаете правый поворот — следовательно, необходимо включить правые указатели поворота (п. 8.1).

**10** Покидая перекресток с круговым движением, Вы совершаете правый поворот и обязаны включить правые указатели поворота. Однако в указанной позиции включение указателей опасно, так как может ввести в заблуждение водителя автомобиля, приближающегося справа.

**11** Приближаясь к перекрестку, на котором Вы намерены повернуть направо, необходимо заблаговременно вклю-

чить правые указатели поворота для того, чтобы водители, приближающиеся сзади и с других направлений, смогли вовремя получить информацию о Ваших намерениях (п. 8.2).

**12** В процессе выполнения поворота указатели должны быть включены. Единственным исключением из этого правила можно считать лишь ситуацию, когда водитель пользуется сигналом рукой. В этом случае подача сигнала может быть закончена непосредственно перед выполнением поворота (п. 8.2).

**13** Подача сигнала указателями поворота должна прекращаться немедленно после завершения маневра. Иначе другие участники движения могут подумать, что Вы намерены произвести остановку либо поворот направо на прилегающую территорию (п. 8.2).

**14** Любое изменение положения на проезжей части требует включения указателей поворота. В данной ситуации, включая правые указатели поворота, Вы информируете других участников движения о своем перестроении на правую полосу (п. 8.1).

**15** Перед поворотом направо Вы обязаны включить правые указатели поворота (п. 8.1), даже если знак 5.8.1 “Направление движения по полосам” и горизонтальная разметка 1.18 запрещают Вам движение в иных направлениях (Прил. 1 и Прил. 2).

**16** Перед поворотом направо Вы обязаны включить правые указатели поворота (п. 8.1), даже если знак 4.1.2 “Движение направо” запрещает Вам движение в иных направлениях (Прил. 1, “Предписывающие знаки”).

**17** В данной ситуации преждевременное включение правых указателей поворота до проезда прилегающей территории опасно, так как может ввести в заблуждение водителя встречного автомобиля. Он может начать движение на перекрестке, не уступая Вам дорогу, предполагая, что Вы собираетесь повернуть во двор (п. 8.2).

**18** В данной ситуации, намереваясь выполнить требование знака 4.1.1 “Движение прямо” и повернуть направо сразу же после проезда перекрестка, Вы не должны до въезда на перекресток включать правые указатели поворота. Этим Вы введете в заблуждение водителя, приближающегося к перекрестку справа (п. 8.2).

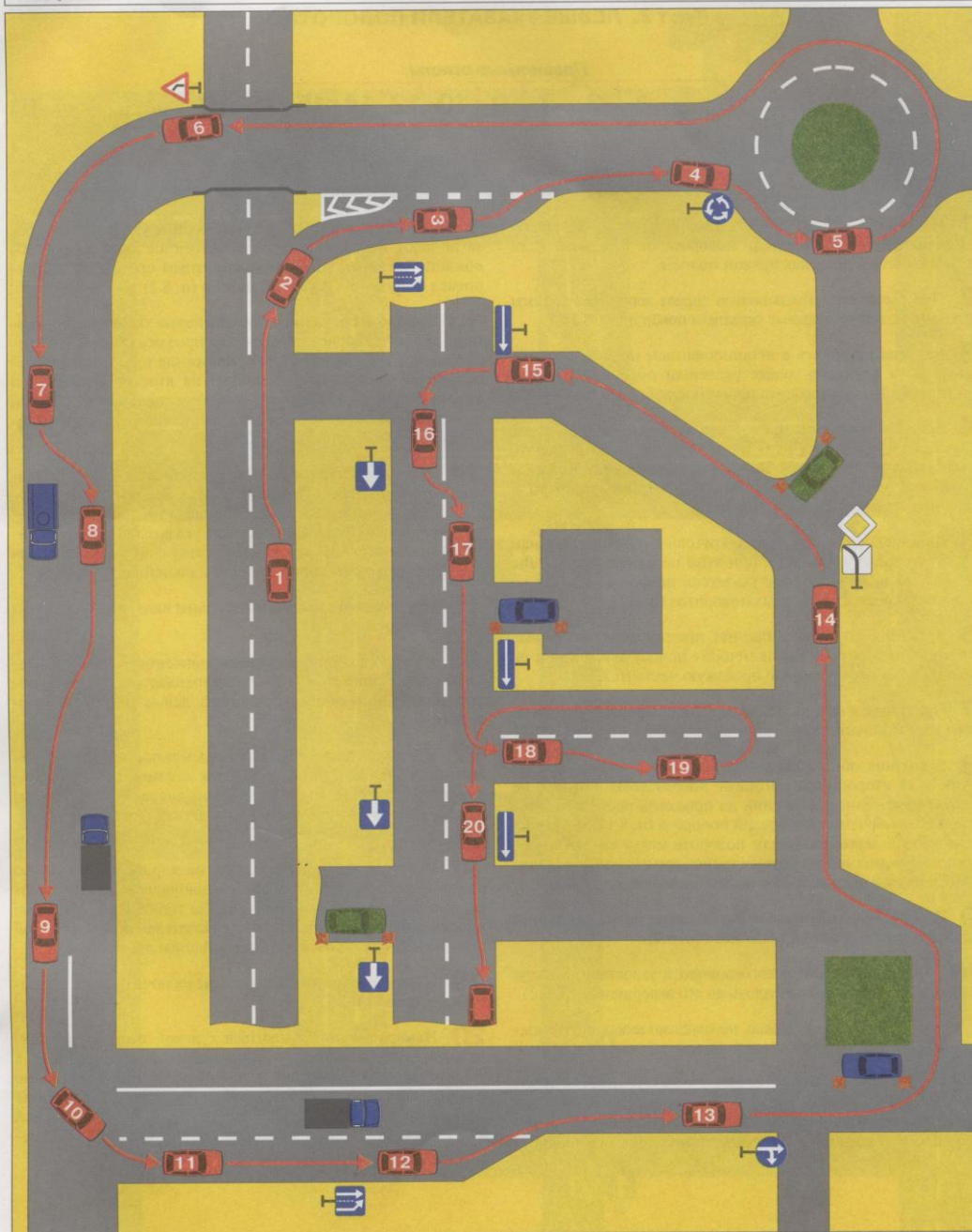
**19** Обычно перед разворотом водитель включает левые указатели поворота, однако на дорогах с одной полосой движения в каждом направлении Вы сможете выполнить этот маневр только от правого края проезжей части (п. 8.8, 2 абз.). Поэтому перед перестроением вправо Вы обязаны включить правые указатели поворота (п. 8.1).

**20** В данной позиции заблаговременное включение правых указателей поворота перед остановкой опасно, так как вводит в заблуждение водителя, выезжающего справа от Вас с второстепенной дороги (п. 8.2).



Тест 2. ЛЕВЫЕ УКАЗАТЕЛИ ПОВОРОТА

Укажите позиции, в которых на красном автомобиле должны быть включены левые указатели поворота?



## Тест 2. ЛЕВЫЕ УКАЗАТЕЛИ ПОВОРОТА

Правильные ответы:

Позиции автомобилей	1	3	7	9	10	12	14	15	16	19
------------------------	---	---	---	---	----	----	----	----	----	----

## КОММЕНТАРИИ К ТЕСТУ ПО ПОЗИЦИЯМ:

**1** Начиная движение от края проезжей части, Вы обязаны включить левые указатели поворота (п. 8.1), даже если Вы останетесь в пределах правой полосы.

**2** При съезде на примыкающую справа дорогу Вы должны включить не левые, а правые указатели поворота (п. 8.1).

**3** Въезжая на дорогу с использованием полосы разгона, Вы должны включить левые указатели поворота, так как фактически Вы производите перестроение влево (п. 8.1).

**4** Если Вы намерены произвести разворот на этом перекрестке, при въезде на него Вы не имеете права включать левые указатели поворота. Выполняя предписание знака 4.3 "Круговое движение", Вы обязаны повернуть направо и включить правые указатели поворота.

**5** Двигаясь по перекрестку с круговым движением (знак 4.3 "Круговое движение") и при этом не меняя полосы, Вы не обязаны включать левые указатели поворота, так как на таких перекрестках нет левых поворотов (п. 8.1).

**6** В данной позиции у Вас нет причин включать левые указатели поворота — Вы не меняете полосу движения и не выезжаете на пересекаемую проезжую часть (п. 8.1).

**7** Приступая к обгону, Вы совершаете перестроение влево и обязаны включить левые указатели поворота (п. 8.1).

**8** Выполняя обгон, Вы завершили перестроение и приступили ко второй фазе обгона — опережению, которое не требует изменения положения на проезжей части и, следовательно, включения указателей поворота (п. 8.1). К тому же включенные левые указатели поворота могут ввести в заблуждение водителей встречных транспортных средств, давая им неверную информацию о Ваших намерениях (п. 8.2).

**9** Перед поворотом налево Вы обязаны заблаговременно включить левые указатели поворота (п. 8.2).

**10** При выполнении левого поворота указатели должны оставаться включенными вплоть до его завершения (п. 8.2).

**11** Завершив поворот налево, необходимо выключить указатели поворота, если не произошло их самовыключения (п. 8.2).

**12** Вы приближаетесь к месту, где заканчивается Ваша полоса движения (знак 5.8.5 "Конец полосы"). Чтобы продолжить движение, Вам необходимо перестроиться на левую полосу, а значит — включить левые указатели поворота

(п. 8.1). Следует помнить, что включенные указатели поворота не дают Вам права на первоочередное движение — Вы обязаны уступить дорогу транспортным средствам, движущимся попутно по соседней полосе (п. 8.2).

**13** В данной ситуации включать левые указатели поворота до въезда на первое пересечение проезжих частей нецелесообразно, так как знак 4.1.4 "Движение прямо и направо" разрешает левый поворот только на втором пересечении проезжих частей. Заблаговременное включение указателей поворота может ввести в заблуждение водителя, приближающегося со встречного направления.

**14** Знак 2.1 "Главная дорога" с табличкой 7.13 "Направление главной дороги" предупреждает Вас о наличии перекрестка, на котором Вы можете продолжить движение налево или направо. Включенные левые указатели помогут водителю, приближающемуся к перекрестку с другого направления, уточнить траекторию Вашего дальнейшего движения.

**15** При повороте налево Вы обязаны включить левые указатели поворота (п. 8.1).

**16** На дороге с односторонним движением (знак 5.5 "Одностороннее движение") Вы перестраиваетесь на левую полосу движения и обязаны включить левые указатели поворота (п. 8.1).

**17** В данной ситуации заблаговременное включение левых указателей поворота опасно, так как может ввести в заблуждение водителя, выезжающего из двора. Решив, что Вы намереваетесь въехать во двор, он может начать движение, не уступив Вам дорогу (п. 8.2).

**18** Чтобы произвести разворот на дороге, имеющей по одной полосе движения в каждом направлении, Вам необходимо перестроиться вправо, чтобы приблизиться к краю проезжей части. Включение левых указателей поворота в этой позиции не будет соответствовать Вашим действиям.

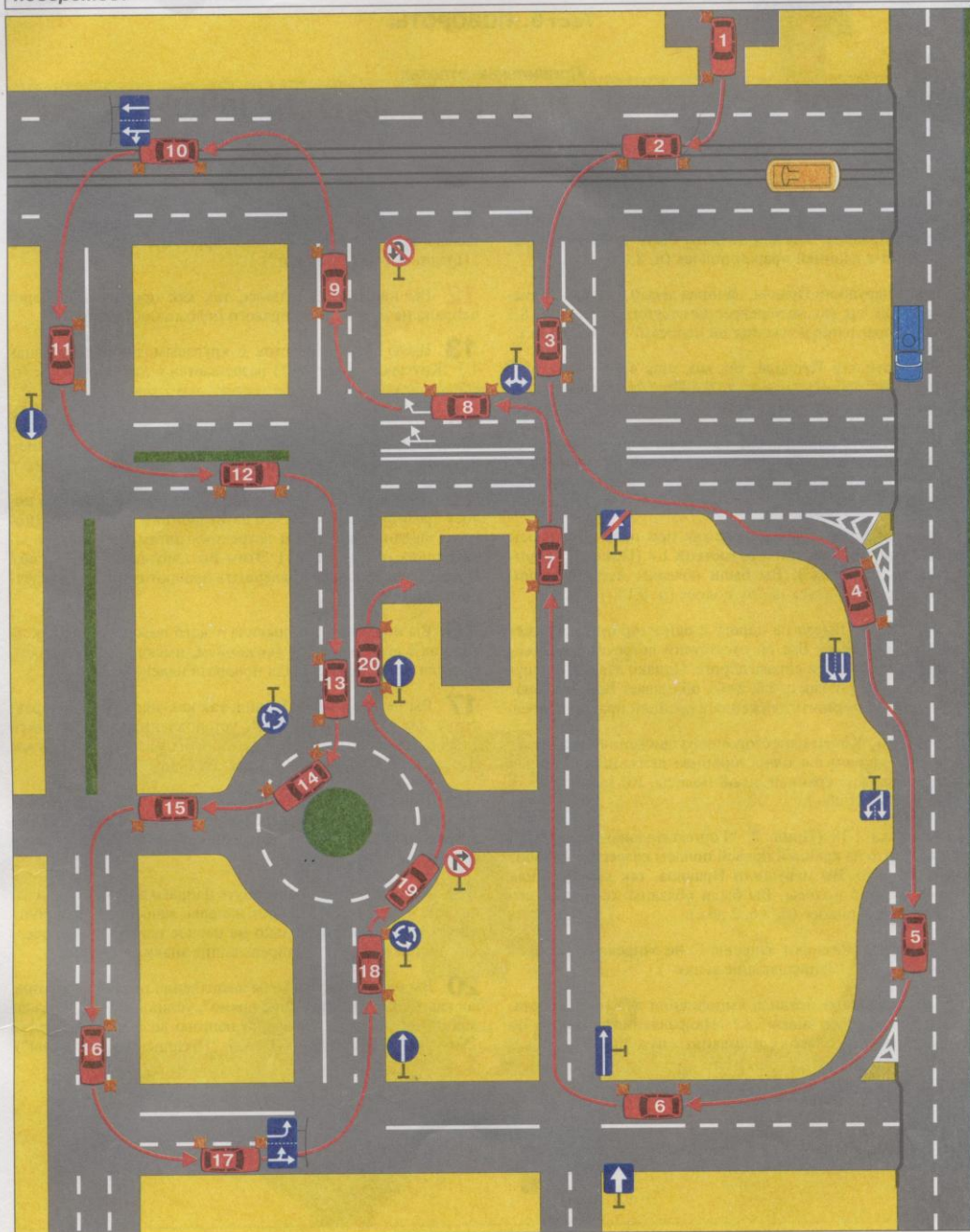
**19** Перед разворотом Вы обязаны включить левые указатели поворота (п. 8.1).

**20** Намереваясь остановиться с левой стороны дороги, на которой организовано одностороннее движение (знак 5.5 "Одностороннее движение"), Вы обязаны включить левые указатели поворота. Однако заблаговременное включение указателей до въезда на перекресток нецелесообразно, так как может ввести в заблуждение водителя, приближающегося к перекрестку с другого направления.



Тест 3. ПОВОРОТЫ

В каких позициях, управляя красным автомобилем, вы не нарушаете правила выполнения поворотов?



## Тест 3. ПОВОРОТЫ

## Правильные ответы:

Позиции автомобилей	2	4	7	9	11	13	16	17	18	19	20
------------------------	---	---	---	---	----	----	----	----	----	----	----

## КОММЕНТАРИИ К ТЕСТУ ПО ПОЗИЦИЯМ:

**1** Выезжая на дорогу с прилегающей территории, Вы нарушили Правила, так как должны были завершить правый поворот в крайней правой полосе (п. 8.6, 2 абз.).

**2** Вы не нарушили Правил, начиная левый поворот с трамвайных путей, так как на перекрестке отсутствуют знаки 5.8.1 и 5.8.2 "Направление движения по полосам" (п. 8.5, 2 абз.).

**3** Вы нарушили Правила, так как знак 4.1.6 "Движение направо и налево" не отменяет п. 8.5 Правил, обязывающий начинать поворот налево из крайнего левого положения.

**4** Вы не нарушили правила въезда на дорогу, используя обозначенную разметкой 1.8 (Прил. 2, "Горизонтальная разметка") полосу для разгона с последующим за этим перестроением (п. 8.10, 2 абз.).

**5** Вы нарушили Правила, так как при наличии полосы торможения, обозначенной разметкой 1.8 (Прил. 2, "Горизонтальная разметка"), Вы были обязаны перед началом поворота перестроиться на эту полосу (п. 8.10, 1 абз.).

**6** Знак 5.7.1 "Выезд на дорогу с односторонним движением" информирует Вас об отсутствии встречного движения на примыкающей справа дороге. Однако здесь Вы нарушили Правила, так как п. 8.6, 2 абз. обязывает Вас при повороте направо завершить движение в крайней правой полосе.

**7** Знак 5.6 "Конец одностороннего движения" указывает место, где закончится одностороннее движение. Начиная левый поворот из крайней левой полосы, Вы не нарушаете Правил (п. 8.5, 1 абз.).

**8** Разметка 1.18 (Прил. 2, "Горизонтальная разметка") указывает, что из крайней правой полосы разрешен поворот только направо. Вы нарушили Правила, так как, начиная поворот из этой полосы, Вы были обязаны завершить его также в правой полосе (п. 8.6, 2 абз.).

**9** Знак 3.19 "Разворот запрещен" не запрещает поворот налево (Прил. 1, "Запрещающие знаки").

**10** Вы нарушили правила выполнения левого поворота, так как при наличии знака 5.8.1 "Направление движения по полосам" начали поворот с трамвайных путей (п. 8.5, 2 абз.).

**11** Знак 4.1.1 "Движение прямо" не запрещает поворот налево на втором пересечении проезжих частей (Прил. 1, "Предписывающие знаки").

**12** Вы нарушили Правила, так как произвели поворот направо не из крайнего правого положения (п. 8.5).

**13** Въезд на перекресток с круговым движением (знак 4.3 "Круговое движение") разрешается с любой полосы (п. 8.5, 1 абз.).

**14** Вы нарушили правила выполнения правых поворотов, так как при съезде с перекрестка с круговым движением были обязаны занять крайнюю правую полосу (п. 8.5, 1 абз.).

**15** Завершая поворот налево, Вы въехали на среднюю полосу трехполосной дороги с двусторонним движением, которая предназначена для встречных автомобилей, поворачивающих налево (п. 9.3). Этим Вы нарушили п. 8.6, 1 абз. Правил, запрещающий завершать поворот на полосе встречного движения.

**16** Вы не нарушаете правила левого поворота, так как на дорогах с двусторонним движением, имеющих три полосы, средняя предназначена для поворота налево (п. 9.3).

**17** Вы не нарушили Правил, так как знак 5.8.2 "Направление движения по полосе", установленный над крайней правой полосой, разрешает поворот налево из этой полосы (Прил. 1, "Информационно-указательные знаки").

**18** Ранее установленный знак 4.1.1 "Движение прямо" прекратил свое действие перед перекрестком (Прил. 1, "Предупреждающие знаки"), поэтому правый поворот на перекрестке не запрещен.

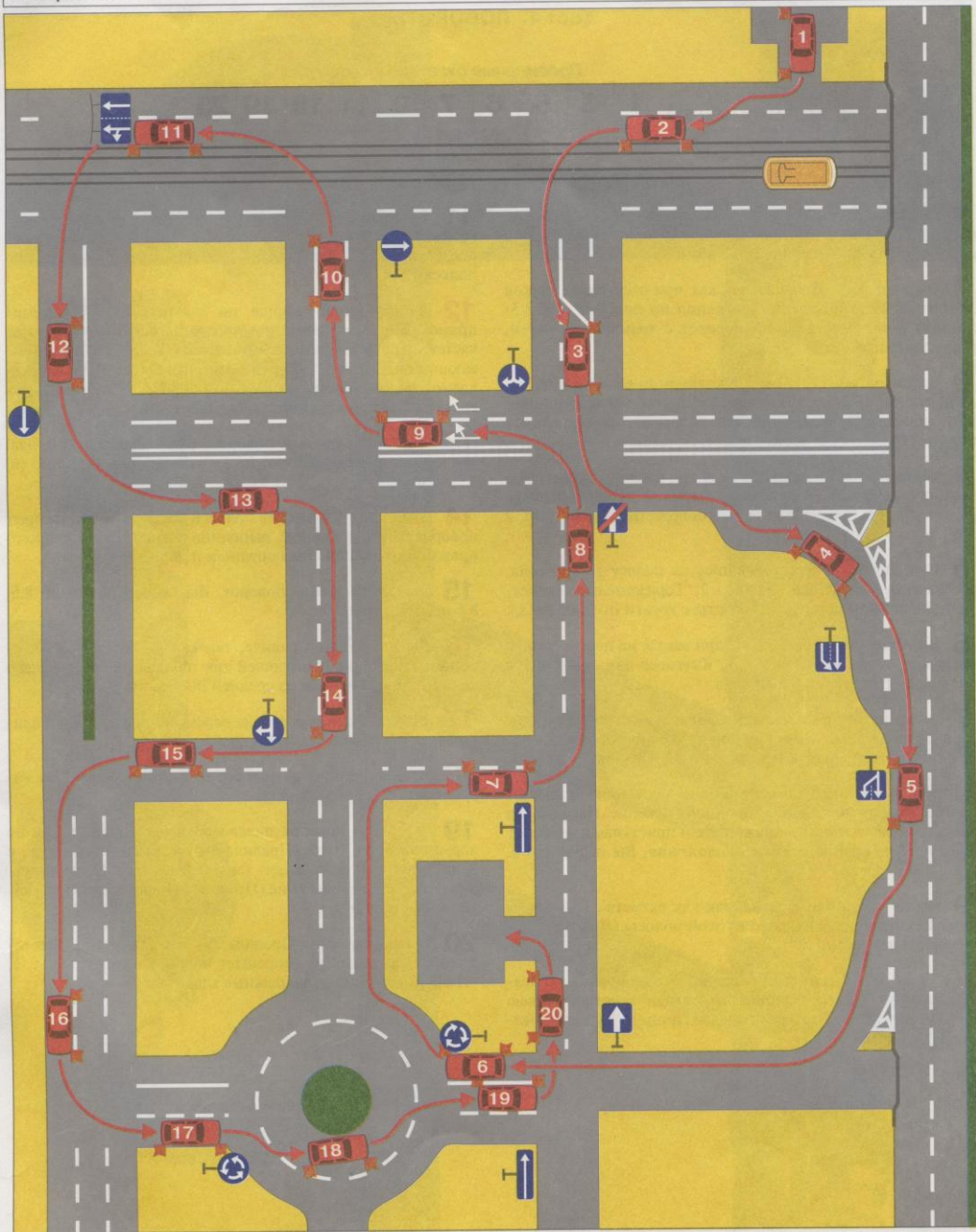
**19** Вы имеете право повернуть направо во второй проезд, так как знак 3.18.1 "Поворот направо запрещен" распространяет свое действие только на первое пересечение проезжих частей (Прил. 1, "Запрещающие знаки").

**20** Вы не нарушили правил выполнения правых поворотов, так как знак 4.1.1 "Движение прямо", установленный в начале дороги, не запрещает поворота направо во двор и на другие прилегающие территории (Прил. 1, "Предписывающие знаки").



Тест 4. ПОВОРОТЫ

В каких позициях, управляя красным автомобилем, вы не нарушаете правила выполнения поворотов?



## Тест 4. ПОВОРОТЫ

## Правильные ответы:

Позиции автомобилей	1	3	5	6	7	9	11	15	19	20
------------------------	---	---	---	---	---	---	----	----	----	----

## КОММЕНТАРИИ К ТЕСТУ ПО ПОЗИЦИЯМ:

**1** Выезжая на дорогу с прилегающей территории, Вы не нарушили Правил, так как завершили правый поворот в крайней правой полосе (п. 8.6, 2 абз.).

**2** Вы нарушили Правила, так как при отсутствии знаков 5.8.1 и 5.8.2 "Направления движения по полосам" (п. 8.5) должны были начать левый поворот с трамвайных путей, расположенных слева.

**3** Закончив левый поворот в крайней правой полосе, Вы не нарушили Правил, так как при выполнении левого поворота запрещается выезд только на полосу встречного движения (п. 8.6).

**4** Вы нарушили Правила, так как при наличии полосы разгона, обозначенной разметкой 1.8 (Прил. 2, "Горизонтальная разметка"), Вы были обязаны начать перестроение (п. 8.10, 2 абз.) только с полосы разгона.

**5** Своевременно перестроившись на полосу торможения, обозначенную разметкой 1.8 (Прил. 2, "Горизонтальная разметка"), Вы не нарушили правила съезда с дороги (п. 8.10, 1 абз.).

**6** Выполняя правый поворот при въезде на перекресток с круговым движением (знак 4.3 "Круговое движение"), Вы не нарушили пп. 8.5 и 8.6 Правил.

**7** Выезжая на пересекаемую дорогу с односторонним движением (знак 5.7.2 "Выезд на дорогу с односторонним движением"), Вы не нарушили пп. 8.5 и 8.6 Правил.

**8** Знак 5.6 "Конец одностороннего движения" указывает место, где закончится одностороннее движение. Находясь на дороге с односторонним движением и приступая к повороту налево не из крайнего левого положения, Вы нарушили п. 8.5, 1 абз. Правил.

**9** Вы не нарушили Правил, так как разметка 1.18 разрешает Вам повернуть направо из этой полосы (Прил. 2, "Горизонтальная разметка").

**10** Знак 4.1.2 "Движение направо", установленный с правой стороны дороги, распространяет свое действие на всю дорогу и запрещает поворот налево (Прил. 1, "Предписывающие знаки").

**11** Выполняя левый поворот из второй полосы, а не с трамвайных путей, Вы не нарушаете Правил, так как на перекрестке установлен знак 5.8.1 "Направления движения по полосам" (п. 8.5, 2 абз.).

**12** Вы нарушили правила, так как знак 4.1.1 "Движение прямо" запрещает левый поворот на пересечении проезжих частей, перед которым он установлен (Прил. 1, "Предписывающие знаки"). В отличие от позиции 11 (тест 3), на пересекаемой дороге нет разделительной полосы — поэтому здесь только одно пересечение проезжих частей.

**13** Выполняя правый поворот, Вы нарушили Правила, так как завершили поворот не в крайней правой полосе (п. 8.6, 2 абз.).

**14** Знак 4.1.4 "Движение прямо и направо" не запрещает поворот направо. Однако, выполнив поворот не из крайнего правого положения, Вы нарушили п. 8.5, 2 абз. Правил.

**15** Выполняя левый поворот, Вы не нарушили пп. 8.5, 8.6 и 9.3 Правил.

**16** Вы нарушили Правила, так как на дороге с двусторонним движением, имеющей три полосы, поворот налево должен производиться из средней полосы (п. 9.3).

**17** Въехав таким образом на перекресток с круговым движением, Вы нарушили п. 8.6, 2 абз. Правил.

**18** Выполнив правый поворот из второй полосы, Вы нарушили п. 8.5, 1 абз. Правил.

**19** Завершив поворот налево во второй полосе, Вы не нарушили п. 8.6, 1 абз. Правил, так как въехали на дорогу с односторонним движением (знаки 5.7.2 и 5.5), где отсутствует встречное движение (Прил. 1, "Информационно-указательные знаки").

**20** Вы не нарушили Правила, так как знак 5.5 "Одностороннее движение" не запрещает поворот налево (Прил. 1, "Информационно-указательные знаки").



Тест 5. РАЗВОРОТЫ

В каких позициях, управляя красным автомобилем, вы можете произвести разворот не нарушая Правил?



## Тест 5. РАЗВОРОТЫ

Правильные ответы:

Позиции автомобилей	1	2	4	5	10	11	13	14	18	19
---------------------	---	---	---	---	----	----	----	----	----	----

## КОММЕНТАРИИ К ТЕСТУ ПО ПОЗИЦИЯМ:

**1** При небольшой ширине проезжей части разворот вне перекрестков разрешается производить даже с правой обочины (п. 8.8).

**2** Разворот разрешен на любых перекрестках, в том числе и на перекрестке неравнозначных дорог, если нет знаков, запрещающих выполнение этого маневра.

**3** Разворот запрещен, так как производится в месте расположения остановочного пункта, обозначенного знаком 5.12 "Место остановки автобуса" (п. 8.11, Прил. 1 "Информационно-указательные знаки") и разметкой 1.17 (Прил. 2 "Горизонтальная разметка").

**4** Разворот разрешен, так как производится на втором пересечении проезжих частей. Знак 4.1.4 "Движение прямо и направо" запрещает разворот только на первом пересечении (Прил. 1, "Предписывающие знаки").

**5** Разворот перед железнодорожным переездом разрешается, если отсутствует сплошная линия горизонтальной разметки 1.1.

**6** Разворот на железнодорожном переезде запрещен (п. 8.11).

**7** Разворот на мостах, эстакадах и путепроводах запрещен (п. 8.11).

**8** Разворот на дороге, обозначенной знаком 5.1 "Автоматическая", запрещен даже в разрывах разделительной полосы (п. 16.1).

**9** Разворот под мостами, эстакадами и путепроводами запрещен (п. 8.11).

**10** Разворот за железнодорожным переездом разрешен при отсутствии сплошной линии горизонтальной разметки 1.1 (п. 8.11).

**11** Знак 4.1.1 "Движение прямо", установленный перед перекрестком, не запрещает разворот на втором пересечении проезжих частей (Прил. 1, "Предписывающие знаки").

**12** Знак 4.1.1 "Движение прямо", установленный в начале дороги, действует до следующего пересечения проезжих частей и запрещает разворот даже при наличии пунктирной линии разметки 1.5 (Прил. 1, "Предписывающие знаки").

**13** На перекрестках развороты не запрещены. Знак 4.1.1 "Движение прямо" прекращает свое действие перед этим перекрестком (Прил. 1, "Предписывающие знаки").

**14** Разворот в этом месте разрешен, так как наличие перекрестка менее чем в 100 м от места разворота не приравнивается к условиям ограниченной видимости.

**15** Знак 3.19 "Разворот запрещен" распространяет свое действие на весь перекресток, поэтому запрещает разворот и на втором пересечении проезжих частей этого перекрестка.

**16** Разворот запрещен, так как производится в месте, где видимость менее 100 м (п. 8.11).

**17** Такой разворот запрещен, так как предписывающий знак 4.3 "Круговое движение" обязывает водителя двигаться только в направлении, указанном стрелками (Прил. 1, "Предписывающие знаки").

**18** Разворот на этом перекрестке разрешен, так как запрещающий знак 3.18.2 "Поворот налево запрещен" не запрещает разворот из крайнего левого положения (п. 8.5, Прил. 1, "Запрещающие знаки").

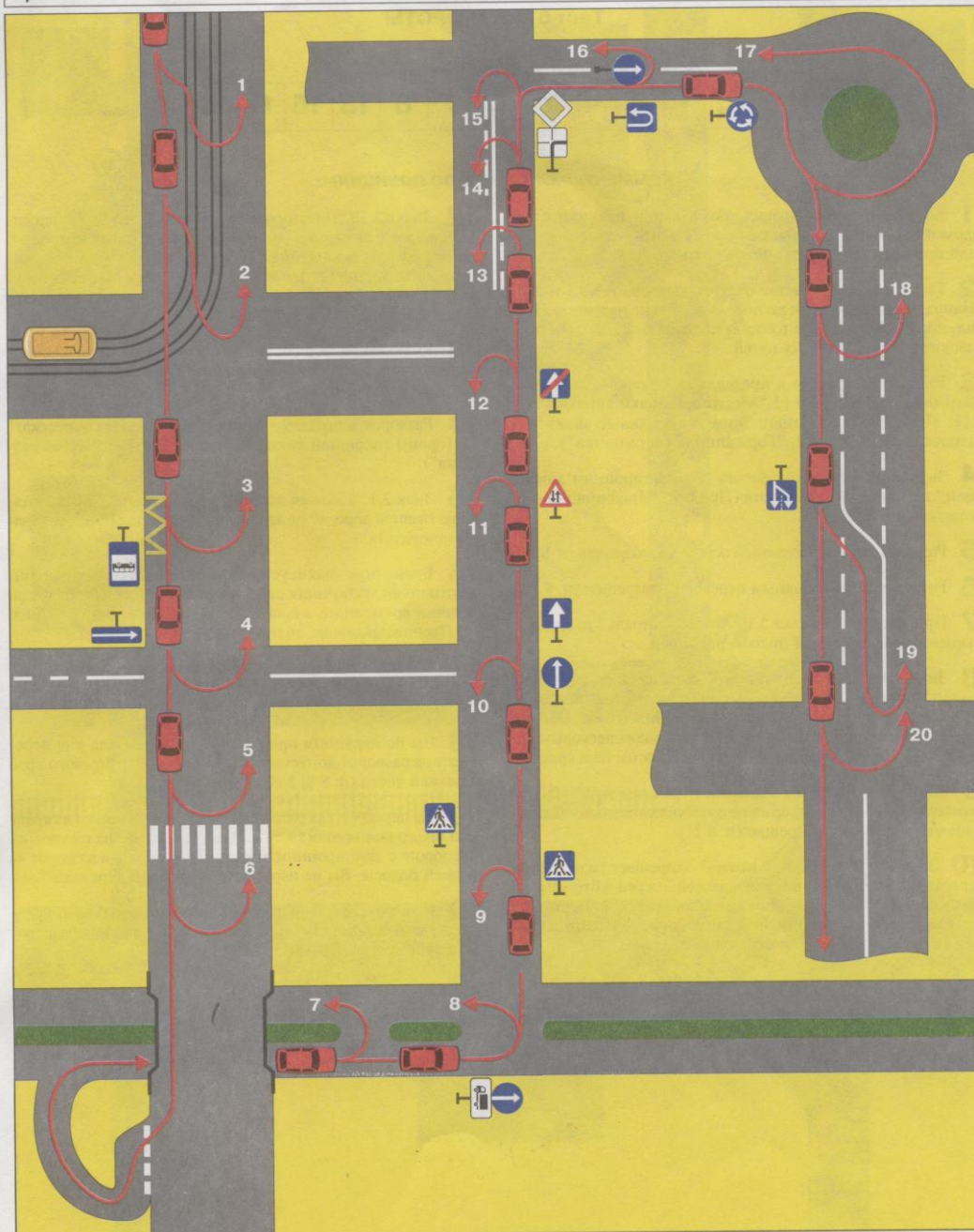
**19** Стрелка на знаке 5.8.1 "Направления движения по полосам", разрешающая поворот налево из крайней левой полосы, разрешает и разворот (Прил. 1, "Информационно-указательные знаки").

**20** Несмотря на то, что стрелка на знаке 5.8.1 "Направления движения по полосам" разрешает поворот налево из правой полосы, разворот запрещен, так как на любых перекрестках разворот разрешен только из крайней левой полосы (Прил. 1, "Информационно-указательные знаки").



Тест 6. РАЗВОРОТЫ

В каких позициях, управляя красным автомобилем, вы можете произвести разворот, не нарушая Правил?



## Тест 6. РАЗВОРОТЫ

Правильные ответы:

Позиции автомобилей	1	2	4	5	6	7	8	13	15	17	18	19
------------------------	---	---	---	---	---	---	---	----	----	----	----	----

## КОММЕНТАРИИ К ТЕСТУ ПО ПОЗИЦИЯМ:

**1** Вы не нарушите Правил, так как при наличии слева трамвайных путей Вы обязаны производить разворот с них, если при этом не создаете помех трамваю (п. 8.5, 2 абз.).

**2** Так как на перекрестке отсутствуют знаки 5.8.1 и 5.8.2 "Направления движения по полосам", Вы не нарушите Правил, поскольку разворот в соответствии с п. 8.5 должен производиться с трамвайных путей.

**3** Разворот запрещен в пределах автобусной остановки, обозначенной знаком 5.12 "Место остановки автобуса" (п. 8.11, Прил. 1, "Информационно-указательные знаки") и разметкой 1.17 (Прил. 2, "Горизонтальная разметка").

**4** Знак 5.7.2 "Выезд на дорогу с односторонним движением" не запрещает разворота (Прил. 1, "Информационно-указательные знаки").

**5** Разворот перед пешеходным переходом разрешен (п. 8.11).

**6** Разворот за пешеходным переходом разрешен (п. 8.11).

**7** При отсутствии знака 5.1 "Автомагистраль" разворот в разрыве разделительной полосы разрешен.

**8** Знак 4.1.1 "Движение прямо" с табличкой 7.4.1 "Вид транспортного средства" обязывает продолжить движение прямо только водителям грузовых автомобилей с максимальной разрешенной массой более 3,5 т. Управляя легковым автомобилем, Вы можете развернуться и на этом перекрестке.

**9** Знаки 5.16.1 и 5.16.2 указывают границы пешеходного перехода (Прил. 1, "Информационно-указательные знаки"), а значит — разворот запрещен (п. 8.11).

**10** Знак 4.1.1 "Движение прямо" запрещает разворот на первом пересечении проезжих частей, перед которым он установлен (Прил. 1, "Предписывающие знаки"). Так как на этом перекрестке всего одно пересечение, разворот запрещен (п. 1.2, термин "Проезжая часть").

**11** Знак 5.5 "Одностороннее движение" запрещает разворот на этой дороге (Прил. 1, "Информационно-указательные знаки").

**12** Знаки 1.19 "Двустороннее движение" и 5.6 "Конец одностороннего движения" информируют Вас о том, что только после перекрестка начинается дорога с двусторонним движением. Выполняя разворот на этом перекрестке, Вы нарушите Правила, так как выезжаете на полосу встречного движения (Прил. 1, "Предупреждающие знаки").

**13** Разворот разрешен, так как разметку 1.11 разрешается пересекать со стороны прерывистой линии (Прил. 2, "Горизонтальная разметка").

**14** Разворот запрещен — разметку 1.11 нельзя пересекать со стороны сплошной линии (Прил. 2, "Горизонтальная разметка").

**15** Знак 2.1 "Главная дорога" с табличкой 7.13 "Направление главной дороги" не запрещает разворота (Прил. 1, "Знаки приоритета").

**16** Временные знаки, установленные на переносной стойке, отменяют требования стационарных знаков. Поэтому при наличии временного знака 4.1.1 "Движение прямо" (Прил. 1, "Предписывающие знаки"), разворот запрещен.

**17** Вы не нарушите правил разворота, двигаясь в соответствии с предписанием знака 4.3 "Круговое движение" (Прил. 1, "Предписывающие знаки").

**18** Вы не нарушите правил разворота, так как вне перекрестков разворот допускается производить от правого края проезжей части (п. 8.8, 2 абз.).

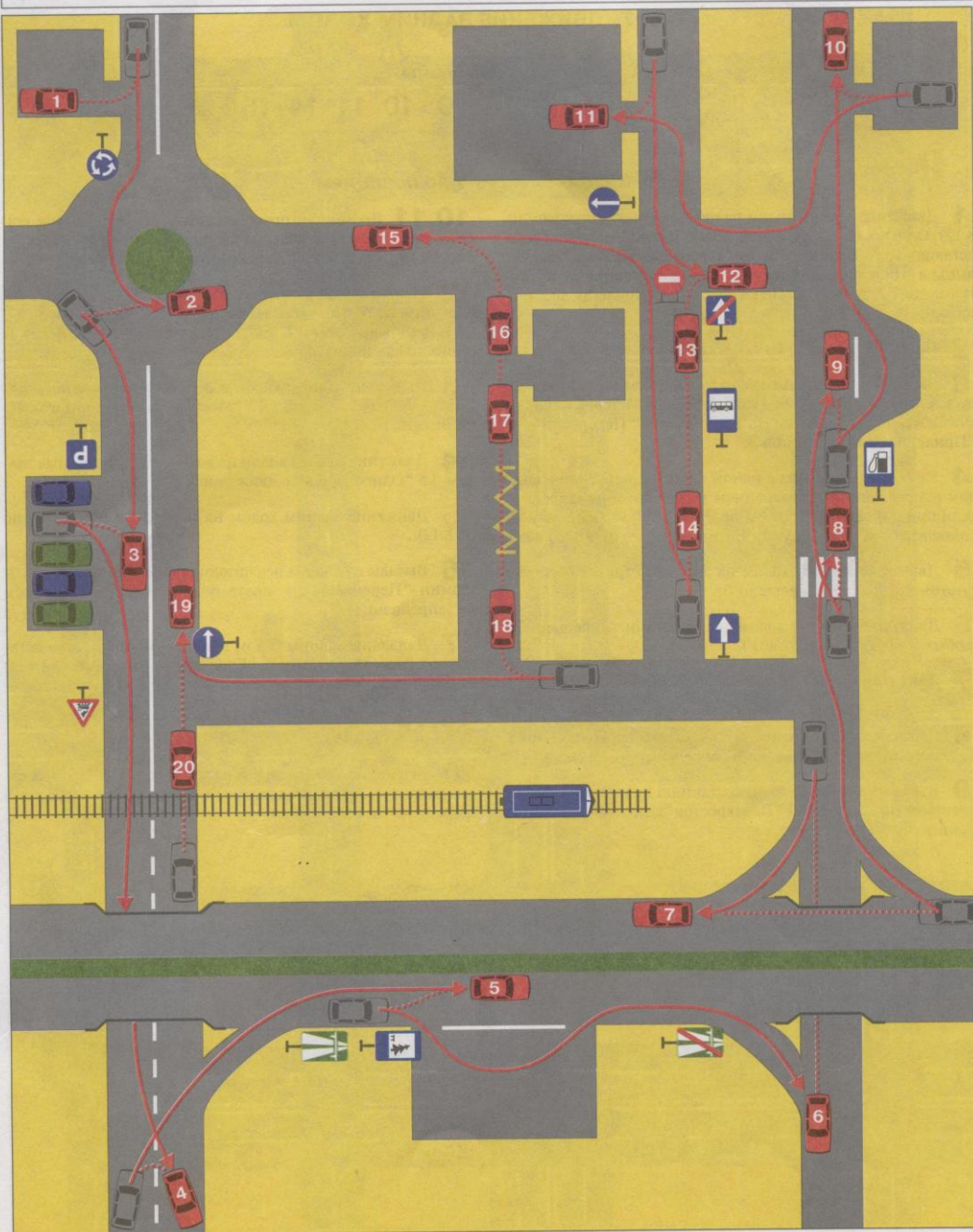
**19** На перекрестках разворот производится только из крайнего левого положения (п. 8.5). В данном случае на трехполосной дороге с двусторонним движением, выполняя разворот из средней полосы, Вы не нарушаете требования Правил.

**20** На перекрестках разворот производится только из крайнего левого положения (п. 8.5). Поэтому, выполняя разворот из правой полосы, Вы нарушите Правила.



Тест 7. ДВИЖЕНИЕ ЗАДНИМ ХОДОМ

Укажите позиции, в которых вам разрешается движение задним ходом?



## Тест 7. ДВИЖЕНИЕ ЗАДНИМ ХОДОМ

## Правильные ответы:

Позиции автомобилей	1	3	4	9	10	11	14	16
------------------------	---	---	---	---	----	----	----	----

## КОММЕНТАРИИ К ТЕСТУ ПО ПОЗИЦИЯМ:

**1** Движение задним ходом на перекрестках запрещено (п. 8.12). Однако, выезжая задним ходом из двора и других прилегающих территорий, Вы не нарушаете Правил, так как выезды с прилегающих территорий не считаются перекрестками (п. 1.2, термины "Перекресток" и "Прилегающая территория").

**2** Нельзя пользоваться задним ходом на перекрестках (п. 8.12).

**3** Вы имеете право въехать задним ходом на примыкающую справа стоянку, так как прилегающие территории не считаются перекрестками (п. 1.2, термины "Перекресток" и "Прилегающая территория").

**4** Разворот на дорогах с одной полосой движения в каждом направлении с применением заднего хода не запрещен, если при его выполнении Вы обеспечите безопасность и не создадите помех другим участникам движения (п. 8.12, 1 абз.).

**5** Движение задним ходом на автомагистралях (знак 5.1 "Автомагистраль") запрещено (п. 16.1).

**6** Движение задним ходом под мостами запрещено на любых дорогах (п. 8.12, 2 абз.).

**7** Движение задним ходом на мостах запрещено (п. 8.12, 2 абз.).

**8** Движение задним ходом на пешеходных переходах (Прил. 2, "Горизонтальная разметка") запрещено (п. 8.12).

**9** Въезд на автозаправочную станцию не считается перекрестком (п. 1.2, термин "Перекресток"), поэтому движение задним ходом разрешено.

**10,11** Вы имеете право использовать задний ход при развороте, так как выезды из дворов не считаются перекрестками (п. 1.2, термин "Перекресток").

**12** Используя движение задним ходом в этом месте, Вы нарушите не только требование знака 3.1 "Въезд запрещен", но и требование п. 8.12, 2 абз., запрещающего применение заднего хода на перекрестках.

**13** Движение задним ходом в местах расположения остановочных пунктов (знак 5.12 "Место остановки автобусов") запрещено (п. 8.12).

**14** Движение задним ходом на дорогах, обозначенных знаком 5.5 "Одностороннее движение", разрешено.

**15** Движение задним ходом на перекрестках запрещено (п. 8.12).

**16** Выезды из дворов не считаются перекрестками (п. 1.2, термин "Перекресток"), поэтому движение задним ходом не запрещено.

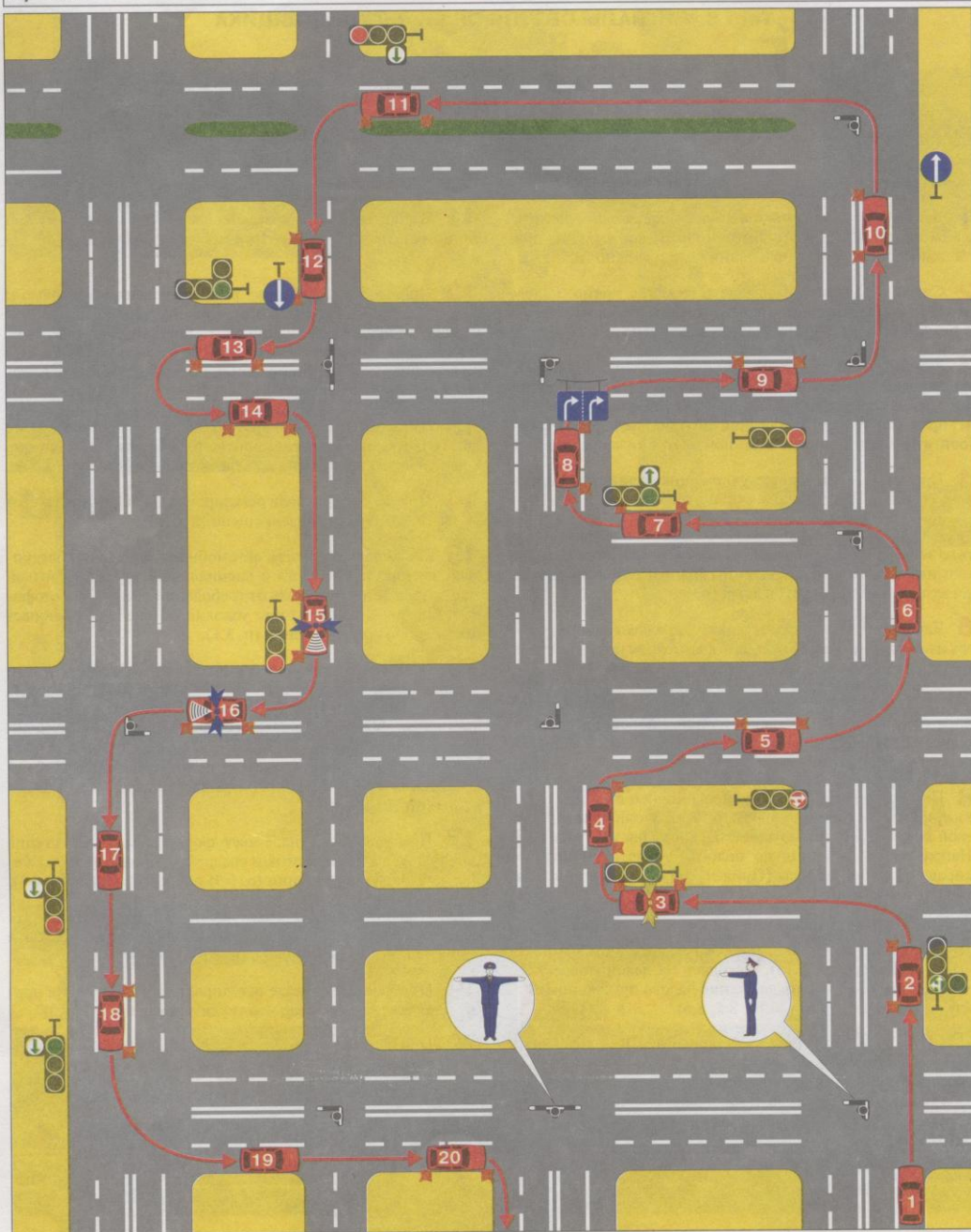
**17** Движение задним ходом в местах расположения остановочных пунктов (Прил. 2, "Горизонтальная разметка 1.17") запрещено (п. 8.12).

**18,19** Движение задним ходом на перекрестках запрещено (п. 8.12, 2 абз.).

**20** Движение задним ходом на железнодорожных переездах (знак 1.2, "Железнодорожный переезд без шлагбаума") запрещено (п. 8.12, 2 абз.).



Тест 8. СИГНАЛЫ СВЕТОФОРА И РЕГУЛИРОВЩИКА  
 В каких позициях, управляя красным автомобилем, вы проедете перекресток без нарушения Правил?



## Тест 8. СИГНАЛЫ СВЕТОФОРА И РЕГУЛИРОВЩИКА

Правильные ответы:

Позиции автомобилей	1	8	9	10	11	13	15	17	18	20
------------------------	---	---	---	----	----	----	----	----	----	----

## КОММЕНТАРИИ К ТЕСТУ ПО ПОЗИЦИЯМ:

**1** Данный сигнал регулировщика разрешает Вам двигаться во всех направлениях (п. 6.10), поэтому движение по правой полосе в прямом направлении не запрещено (п. 8.5).

**2** Сигнал светофора разрешает движение прямо, налево и в обратном направлении (п. 6.3). Поскольку Вы находитесь на правой полосе, поворот налево запрещен (п. 8.5).

**3** Зеленый сигнал светофора при выключенной дополнительной секции запрещает поворот направо (п. 6.3). Включенный проблесковый маячок желтого (оранжевого) цвета не дает права отступать от требований сигналов светофора (п. 3.4). Поэтому поворот направо в данной ситуации запрещен.

**4** При данном сигнале регулировщика движение со стороны спины запрещено во всех направлениях (п. 6.10).

**5** Красный сигнал светофора в виде стрелок прямо и направо запрещает Вам движение во всех направлениях. Стрелки лишь информируют о разрешенных направлениях движения при включении зеленого сигнала (п. 6.3).

**6** Данный сигнал регулировщика разрешает движение во всех направлениях (п. 6.10). Однако, выполняя поворот налево не из крайнего левого положения, Вы нарушаете п. 8.5 Правил.

**7** Данный сигнал светофора разрешает движение во всех направлениях (п. 6.3). Однако, начиная поворот из правой полосы, Вы обязаны были завершить его также в правой полосе (п. 8.6, 2 абз.).

**8** При данном сигнале регулировщика со стороны груди разрешено движение направо (п. 6.10). Выполняя поворот из левой полосы, Вы не нарушаете Правил, так как знак 5.8.1 "Направления движения по полосам" разрешает поворот направо из любой полосы (Прил. 1, "Информационно-указательные знаки").

**9** На этом перекрестке Вы обязаны руководствоваться сигналами регулировщика, так как регулировщик отменяет сигнал светофора (п. 6.15). Находясь на левой полосе, Вы имеете право продолжить движение налево при данном сигнале регулировщика (пп. 6.10, 8.5, 8.6).

**10** При данном сигнале регулировщика Вам разрешено из левой полосы совершить поворот налево (пп. 6.10, 8.5, 8.6). Знак 4.1.1 "Движение прямо" также не запрещает поворот, так как действует только на первое пересечение проезжих частей (Прил. 1, "Предписывающие знаки").

**11** Вы находитесь на крайней левой полосе и поэтому при данном сигнале светофора можете повернуть налево (пп. 6.3 и 8.5).

**12** Сигнал регулировщика разрешает движение прямо и направо (п. 6.10). Однако в обычной ситуации, когда регулировщик не использует специальных дополнительных жестов, Вы обязаны учитывать установленную с помощью знака 4.1.1 "Движение прямо" организацию движения. Поэтому поворот направо Вам запрещен.

**13** Данный сигнал светофора разрешает движение прямо, налево и в обратном направлении (п. 6.3). Поэтому, находясь на крайней левой полосе, Вы можете совершить разворот (п. 8.5).

**14** При данном сигнале регулировщика движение со стороны спины или груди запрещено (п. 6.10).

**15** Поскольку на Вашем автомобиле включен проблесковый маячок синего цвета и специальный звуковой сигнал, Вам разрешается отступать от требований сигналов светофора и повернуть направо при условии обеспечения безопасности дорожного движения (п. 3.1).

**16** Водители автомобилей с включенным проблесковым маячком синего цвета могут отступать от требований многих разделов Правил и Приложений 1 и 2, однако они обязаны выполнять требования регулировщиков. В этой ситуации водитель специального автомобиля даже с включенным специальным звуковым сигналом не имеет права повернуть налево, так как регулировщик разрешает движение только направо (пп. 3.1 и 6.10).

**17** При данном сигнале светофора Вы можете, уступив дорогу другим транспортным средствам, продолжить движение в прямом направлении (п. 6.3) по любой полосе (п. 8.5).

**18** При данном сигнале светофора Вы можете повернуть налево (п. 6.2). Завершить поворот Правила разрешают как в левой, так и в правой полосе (п. 8.6).

**19** При данном сигнале регулировщика движение в прямом направлении со стороны груди запрещено (п. 6.10).

**20** При данном сигнале регулировщика Вам разрешен поворот направо (п. 6.10) из крайнего правого положения.



Тест 9. СИГНАЛЫ СВЕТОФОРА И РЕГУЛИРОВЩИКА

В каких позициях, управляя красным автомобилем, вы проедете перекресток без нарушения Правил?



## Тест 9. СИГНАЛЫ СВЕТОФОРА И РЕГУЛИРОВЩИКА

Правильные ответы:

Позиции автомобилей	1	3	4	8	10	11	13	15	18	19
------------------------	---	---	---	---	----	----	----	----	----	----

## КОММЕНТАРИИ К ТЕСТУ ПО ПОЗИЦИЯМ:

**1** Данный сигнал светофора с выключенной дополнительной секцией запрещает поворот направо (п. 6.3, 2 абз.). Переставившись на другую проезжую часть, Вы не меняете направление движения, а значит и не нарушаете Правил.

**2** Данный сигнал светофора не разрешает правый поворот. Вы сможете повернуть направо только после включения дополнительной секции светофора (п. 6.3).

**3** Данный сигнал регулировщика разрешает со стороны груди поворот направо из правой полосы (пп. 6.10, 8.5).

**4** Данный сигнал регулировщика разрешает со стороны левого бока движение в любом направлении (п. 6.10).

**5** Сигналы светофора не отменяют предписывающие знаки. Поэтому, выполняя требование знака 4.1.1 "Движение прямо", Вы не можете повернуть налево даже при разрешающем сигнале светофора (Прил. 1, "Предписывающие знаки").

**6** В данной ситуации Вы обязаны руководствоваться сигналами регулировщика, так как регулировщик отменяет сигналы светофора (п. 6.15). При данном сигнале регулировщика движение со стороны груди и спины запрещено (п. 6.10).

**7** Сигнал регулировщика разрешает движение только направо (п. 6.10), поэтому Вы не можете продолжить движение прямо, чтобы затем повернуть направо на втором пересечении данного перекрестка.

**8** В данной ситуации сигнал светофора разрешает движение только направо (п. 6.3). Поскольку на Вашем автомобиле включен проблесковый маячок синего цвета и специальный звуковой сигнал, Вы можете отступить от требований сигнала светофора и повернуть налево при условии обеспечения безопасности дорожного движения (п. 3.1).

**9** Управляя автомобилем с включенным проблесковым маячком синего цвета и специальным звуковым сигналом, водитель может отступать от ряда разделов Правил и Приложений 1 и 2. Но, имея право отступать от требований сигналов светофора, он обязан подчиняться сигналу регулировщика (п. 3.1). При данном сигнале регулировщика поворот налево запрещен (п. 6.10).

**10** Данный сигнал регулировщика разрешает движение со стороны левого бока в любом направлении, поэтому Вы можете повернуть направо (п. 6.10).

**11** Данный сигнал регулировщика разрешает со стороны правого и левого бока движение прямо и направо (п. 6.10). Поэтому Вы можете продолжать движение прямо, чтобы затем повернуть направо на втором пересечении проезжих частей данного перекрестка.

**12** Управляя автомобилем с проблесковым маячком оранжевого (желтого) цвета, Вы не имеете преимущества в движении и не можете отступать от требований сигналов светофора (п. 3.4). Поэтому в данной ситуации Вы должны остановиться (п. 6.3).

**13** Данный сигнал регулировщика разрешает движение со стороны левого бока в любом направлении (п. 6.10), поэтому разворачиваться на этом перекрестке можно.

**14** Данный сигнал регулировщика запрещает движение (п. 6.10). Знак 4.1.6 "Движение направо и налево" указывает лишь возможные направления движения при разрешающих сигналах регулировщика.

**15** Знак 5.7.1 "Выезд на дорогу с односторонним движением" не запрещает проезда в прямом направлении (Прил. 1, "Информационно-указательные знаки"). Поэтому при зеленом сигнале светофора Вы можете въехать на перекресток и повернуть налево на втором пересечении проезжих частей (п. 6.2).

**16** Въехав на перекресток при разрешающем сигнале светофора, Вы не можете завершить поворот при красном сигнале светофора, так как на Вашем пути имеется стоп-линия (п. 13.7). Вы обязаны, руководствуясь сигналом светофора, остановиться.

**17** Данный сигнал регулировщика запрещает движение (п. 6.10). Знак 4.1.4 "Движение прямо и направо" указывает лишь возможные направления движения при разрешающих сигналах регулировщика.


**18** Данный сигнал регулировщика разрешает движение во всех направлениях (п. 6.10), поэтому можно повернуть налево. Закончив поворот в крайней левой полосе, Вы также не нарушаете Правил, так как знак 5.7.2 "Выезд на дорогу с односторонним движением" информирует Вас об отсутствии встречного движения (Прил. 1, "Информационно-указательные знаки").

**19** Находясь на дороге с односторонним движением, из крайней левой полосы можно начать поворот налево (п. 8.5) по зеленому сигналу светофора (п. 6.2). При этом Вы можете завершить поворот и при запрещающем сигнале светофора, так как на Вашем пути отсутствует стоп-линия (п. 13.7).

**20** Сигнал регулировщика разрешает движение прямо и направо (п. 6.10). Однако в обычной ситуации, когда регулировщик не использует дополнительных жестов, Вы обязаны учитывать установленную с помощью знаков организацию движения. В данном случае знак 5.7.2 "Выезд на дорогу с односторонним движением" запрещает Вам повернуть направо.



**Тест 10. РЕГУЛИРУЕМЫЕ ПЕРЕКРЕСТКИ**  
 В каких позициях, управляя красным автомобилем, вы имеете право проехать перекресток первым?



## Тест 10. РЕГУЛИРУЕМЫЕ ПЕРЕКРЕСТКИ

## Правильные ответы:

Позиции автомобилей	1	3	7	8	11	13	16	18	20
------------------------	---	---	---	---	----	----	----	----	----

## КОММЕНТАРИИ К ТЕСТУ ПО ПОЗИЦИЯМ:

**1** Данный сигнал регулировщика разрешает движение обоим автомобилям (п. 6.10). При этом Вы проезжаете перекресток первым, так как для водителя, выполняющего разворот, Вы являетесь «помехой справа» (п. 8.9).

**2** Данный сигнал регулировщика разрешает движение обоим автомобилям (п. 6.10). Однако, в соответствии с п. 3.2, Вам необходимо уступить дорогу автомобилю с включенным проблесковым маячком синего цвета и специальным звуковым сигналом, водитель которого имеет право, отступив от правил маневрирования (п. 3.1), выполнить поворот не из крайнего положения.

**3** На регулируемых перекрестках знаки приоритета (знак 2.4 «Уступите дорогу») не определяют очередности движения (п. 13.3). В данной ситуации Вы должны руководствоваться сигналами регулировщика, который разрешает Вам проехать перекресток первым (п. 6.10).

**4** На регулируемых перекрестках знаки приоритета (знак 2.1 «Главная дорога») не определяют очередности движения (п. 13.3). В данной ситуации Вы должны руководствоваться сигналами регулировщика, который запрещает движение — Вы должны остановиться и пропустить выезжающий на перекресток автомобиль, которому регулировщик разрешает движение (п. 6.10).

**5** Стрелка в дополнительной секции светофора разрешает Вам продолжать движение в прямом направлении (п. 6.3). Однако в сочетании с красным сигналом светофора стрелка обязывает Вас уступить дорогу автомобилю, выезжающему на перекресток с другого направления (п. 13.5).

**6** При повороте налево по зеленому сигналу светофора Вы обязаны уступить дорогу автомобилю, движущемуся прямо во встречном направлении (п. 13.4).

**7** Стрелка в дополнительной секции светофора, включенная одновременно с зеленым сигналом, разрешает поворот налево, не уступая дорогу встречным автомобилям (п. 13.5). Для них в этот момент горит красный сигнал, запрещающий движение.

**8** На регулируемых перекрестках знаки приоритета (знак 2.4 «Уступите дорогу») не определяют очередности движения (п. 13.3). Так как зеленый сигнал светофора разрешает движение (п. 6.2), то Вы можете повернуть направо, не уступая дорогу трамваю, для которого в этот момент горит красный сигнал.

**9** Зеленый сигнал светофора разрешает движение одновременно Вам и трамваю. Так как ваши пути пересекаются, Вы обязаны уступить трамваю дорогу (п. 13.6).

**10** При повороте налево (направо) по зеленому сигналу светофора Вы обязаны уступить дорогу пешеходам, перехо-

дящим проезжую часть дороги, на которую Вы поворачиваете (п. 13.1).

**11** Сигналы регулировщика отменяют сигналы светофора (п. 6.15). При данном сигнале регулировщика движение грузовому автомобилю запрещено, поэтому Вы можете проехать перекресток первым (п. 6.10).

**12** При разрешающем движении сигнале светофора (пп. 6.2 и 6.3) Вы обязаны уступить дорогу автомобилю с включенным проблесковым маячком синего цвета и специальным звуковым сигналом (п. 3.2), который может отступать от требований сигналов светофора и двигаться на красный сигнал (п. 3.1).

**13** Данный сигнал светофора разрешает поворот налево и запрещает трамваю движение прямо (п. 6.3). Вы имеете право проехать перекресток первым.

**14** Данный сигнал регулировщика разрешает Вам поворот направо (п. 6.10). Однако в соответствии с п. 13.1 Вы обязаны уступить дорогу пешеходам, переходящим проезжую часть, на которую Вы поворачиваете.

**15** Данный сигнал светофора разрешает Вам поворот направо (п. 6.3). Однако, выполняя поворот в направлении стрелки, включенной одновременно с красным (желтым) сигналом светофора, Вы обязаны уступить дорогу движущемуся с другого направления автомобилю (п. 13.5), в том числе и выполняющему разворот по зеленому сигналу светофора.

**16** Выполняя поворот по разрешающему сигналу светофора (п. 6.2), Вы не обязаны уступать дорогу автомобилю с включенным проблесковым маячком оранжевого или желтого цвета (п. 3.4).

**17** На регулируемых перекрестках знаки приоритета (знак 2.1 «Главная дорога») не определяют очередности движения (п. 13.3). Поэтому, поворачивая налево по зеленому сигналу светофора, Вы обязаны уступить дорогу встречному трамваю (п. 13.4).

**18** Выполняя правый поворот по зеленому сигналу светофора (п. 6.2), Вы должны проехать перекресток первым, а водитель встречного автомобиля обязан уступить дорогу (п. 13.4).

**19** Стрелка в дополнительной секции светофора разрешает Вам повернуть направо (п. 6.3), но, в сочетании с красным сигналом светофора, стрелка обязывает Вас уступить дорогу автомобилю, выезжающему на перекресток с другого направления по зеленому сигналу светофора (п. 13.5).

**20** Поворачивая налево при зеленом сигнале светофора, Вы не обязаны уступать дорогу встречному автомобилю, если убеждены в том, что он также поворачивает налево и ваши пути не пересекаются.



**Тест 11. РЕГУЛИРУЕМЫЕ ПЕРЕКРЕСТКИ**

*В каких позициях, управляя красным автомобилем, вы имеете право проехать перекресток первым?*



## Тест 11. РЕГУЛИРУЕМЫЕ ПЕРЕКРЕСТКИ

## Правильные ответы:

Позиции автомобилей	2	3	6	8	9	11	13	14	15	16
---------------------	---	---	---	---	---	----	----	----	----	----

## КОММЕНТАРИИ К ТЕСТУ ПО ПОЗИЦИЯМ:

**1** Такой сигнал регулировщика разрешает движение обоим автомобилям (п. 6.10). Однако, в соответствии с п. 3.2, Вам необходимо уступить дорогу автомобилю с включенным проблесковым маячком синего цвета и специальным звуковым сигналом.

**2** Сигнал светофора разрешает Вам движение прямо (п. 6.2), не уступая дорогу встречному автомобилю, поворачивающему налево (п. 13.4). Оранжевый (желтый) проблесковый маячок, включенный на этом автомобиле, не дает преимущества в движении (п. 3.4, 2 абз.).

**3** Зеленый сигнал светофора разрешает Вам проехать перекресток в прямом направлении (п. 6.2), не уступая дороги любому другому транспортному средству, кроме трамвая (п. 13.6).

**4** Такой сигнал регулировщика разрешает движение одновременно Вам и трамваю (п. 6.10), но преимущество в движении имеет трамвай (п. 13.6).

**5** При движении в направлении стрелки, включенной в дополнительной секции одновременно с красным сигналом светофора, Вы обязаны уступить дорогу автомобилю, движущемуся налево со встречного направления по зеленому сигналу светофора (п. 13.5).

**6** На регулируемых перекрестках знаки приоритета (знак 2.4 "Уступите дорогу") не определяют очередности движения (п. 13.3). Так как зеленый сигнал светофора разрешает движение (п. 6.2), Вы можете повернуть налево, не уступая дорогу автомобилю, для которого в этот момент горит красный сигнал, запрещающий движение.

**7** Сигнал светофора разрешает движение одновременно Вам и трамваю (п. 6.3), но преимущество в движении имеет трамвай (п. 13.6).

**8** Такой сигнал регулировщика разрешает движение обоим автомобилям (п. 6.10). Но Вы проезжаете перекресток первым, так как для водителя, выполняющего разворот, Вы являетесь "помехой справа" (п. 8.9). Оранжевый проблесковый маячок, включенный на этом автомобиле, не дает преимущества в движении (п. 3.4, 2 абз.).

**9** Зеленый сигнал светофора разрешает Вам проехать перекресток прямо (п. 6.2). Причем Вы должны проехать его первым, так как водитель встречного автомобиля, поворачивающий налево, обязан уступить Вам дорогу (п. 13.4).

**10** Сигналы регулировщика отменяют сигналы светофора (п. 6.15). Так как при данном сигнале регулировщика Вам запрещено движение (п. 6.10), Вы обязаны остановиться.

**11** Такой сигнал регулировщика разрешает движение только Вам и запрещает движение направо трамваю (п. 6.10).

**12** При движении в направлении стрелки, включенной в дополнительной секции одновременно с красным сигналом светофора, Вы обязаны уступить дорогу автомобилю, движущемуся по зеленому сигналу светофора с другого направления (п. 13.5).

**13** Зеленый сигнал светофора разрешает Вам поворот налево (п. 6.2). Так как специальный светофор в виде буквы "Т" в этот момент запрещает движение трамваю (п. 6.8), Вы можете проехать перекресток первым.

**14** Такой сигнал регулировщика разрешает движение Вам и водителю автомобиля с включенными проблесковыми маячками синего и красного цвета (п. 6.10). Поскольку ваши пути не пересекаются, Вы можете проехать перекресток первым. Уступать дорогу автомобилю с включенным маячком синего цвета и специальным звуковым сигналом в данной ситуации не требуется, так как водитель этого автомобиля, выполняя требование регулировщика, должен остановиться (п. 3.1, 1 абз.).

**15** На регулируемых перекрестках знаки приоритета (знак 2.4 "Уступите дорогу") не определяют очередности движения (п. 13.3). Так как стрелка в дополнительной секции включена одновременно с зеленым сигналом светофора, Вы можете повернуть налево, не уступая дороги встречному автомобилю (п. 13.5), для которого в этот момент горит красный сигнал.

**16** Стрелка в дополнительной секции светофора разрешает Вам поворот налево (п. 6.3). При этом Вы не обязаны уступать дорогу встречному автомобилю, если он поворачивает налево и ваши пути движения не пересекаются.

**17** При разрешающем движении сигнале светофора Вы обязаны уступить дорогу автомобилю с включенным проблесковым маячком синего цвета и специальным звуковым сигналом (п. 3.2) — он может продолжать движение даже при запрещающем сигнале светофора (п. 3.1).

**18** На регулируемых перекрестках знаки приоритета (знак 2.1 "Главная дорога") не определяют очередности движения (п. 13.3). Поэтому, поворачивая налево при зеленом сигнале светофора, Вы обязаны уступить дорогу встречному автомобилю (п. 13.4).


**19** Данный сигнал регулировщика разрешает Вам поворот направо (п. 6.10). Однако, в соответствии с п. 13.1, Вы обязаны уступить дорогу пешеходам, переходящим проезжую часть, на которую Вы поворачиваете.

**20** Сигнал светофора разрешает Вам поворот направо (п. 6.3). Однако, выполняя поворот в направлении стрелки, включенной одновременно с красным сигналом светофора, Вы обязаны уступить дорогу движущемуся с другого направления автомобилю, в том числе и выполняющему разворот по зеленому сигналу светофора (п. 13.5).



Тест 12. ПЕРЕКРЕСТКИ РАВНОЗНАЧНЫХ ДОРОГ

В каких позициях, управляя красным автомобилем, вы имеете право проехать перекресток первым?



## Тест 12. ПЕРЕКРЕСТКИ РАВНОЗНАЧНЫХ ДОРОГ

Правильные ответы:

Позиции автомобилей	1	3	5	9	10	13	14	15	17	20
---------------------	---	---	---	---	----	----	----	----	----	----

## КОММЕНТАРИИ К ТЕСТУ ПО ПОЗИЦИЯМ:

**1** На перекрестке равнозначных дорог, не имея «помехи справа» и не препятствуя движению трамвая, Вы можете продолжать движение одновременно с трамваем (п. 13.11).

**2** Трамвай имеет преимущество в движении на этом перекрестке (п. 13.11, 2 абз.) и Вы не имеете права проехать одновременно с трамваем, так как на перекрестке равнозначных дорог Вы обязаны уступить дорогу автомобилю, приближающемуся справа (п. 13.11).

**3** Не имея «помехи справа», Вы можете проехать перекресток первым (п. 13.11). Включенный проблесковый маячок оранжевого (желтого) цвета на встречном автомобиле не дает ему право на преимущество в движении (п. 3.4, 2 абз.).

**4** В данной ситуации пересекаемая грунтовая дорога при наличии знака 1.6 «Пересечение равнозначных дорог» является равной по значению той, по которой Вы движетесь. Поэтому Вы должны уступить дорогу транспортным средствам, приближающимся справа (п. 13.11, 1 абз.), в том числе и гужевой повозке (см. термин «Транспортное средство», п. 1.2).

**5** Двигаясь в прямом направлении, Вы не создадите помех автомобилю с включенным проблесковым маячком синего цвета и специальным звуковым сигналом, так как ваши пути не пересекаются. По отношению к встречному автомобилю, поворачивающему налево, Вы имеете преимущество (п. 13.12) и можете проехать перекресток первым.

**6** При желтом мигающем сигнале светофора перекресток считается нерегулируемым (п. 13.3). Имея «помеху справа» на перекрестке равнозначных дорог, Вы должны уступить дорогу (п. 13.11, 1 абз.).

**7** Имея «помеху справа», Вы должны уступить дорогу (п. 13.11, 1 абз.).

**8** При повороте налево (направо) Вы должны уступить дорогу пешеходам, переходящим проезжую часть дороги, на которую Вы поворачиваете (п. 13.1).

**9** В данной ситуации, выполняя правый поворот на перекрестке равнозначных дорог, Вы не имеете «помехи справа» на пути своего движения и можете проехать одновременно с другими участниками движения.

**10** Водитель автомобиля с включенным проблесковым ма-

ячком желтого (оранжевого) цвета не пользуется преимуществом в движении (п. 3.4, 2 абз.). Поэтому, не имея «помехи справа», Вы проезжаете перекресток первым (п. 13.11, 1 абз.).

**11** На перекрестке равнозначных дорог Вы обязаны уступить дорогу трамваю независимо от направления его движения (п. 13.11, 2 абз.).

**12** При повороте направо (налево) Вы должны уступить дорогу пешеходам, переходящим проезжую часть дороги, на которую Вы поворачиваете (п. 13.1).

**13** В данной ситуации пересекаемая грунтовая дорога при наличии знака 1.6 «Пересечение равнозначных дорог» является равной по значению той, по которой Вы движетесь. Следовательно, не имея «помехи справа», Вы проезжаете перекресток первым (п. 13.11, 1 абз.).

**14** Так как на перекрестке установлен знак 1.6 «Пересечение равнозначных дорог», Вы, выезжая с грунтовой дороги и не имея «помехи справа», можете проехать перекресток первым.

**15** Не имея «помехи справа», Вы проезжаете перекресток первым (п. 13.11, 1 абз.).

**16** Автомобиль с включенным проблесковым маячком синего цвета и специальным звуковым сигналом имеет преимущество в движении (п. 3.1), поэтому Вы должны уступить дорогу.

**17** Не имея «помехи справа» на перекрестке равнозначных дорог, Вы проезжаете его первым (п. 13.11, 1 абз.).

**18** Автомобиль с включенным проблесковым маячком синего цвета и специальным звуковым сигналом имеет преимущество в движении (п. 3.1), поэтому Вы должны уступить дорогу.

**19** Совершая левый поворот на перекрестке равнозначных дорог, Вы должны уступить дорогу транспортным средствам, движущимся прямо во встречном направлении (п. 13.12), в том числе и велосипеду (см. термин «Велосипед», п. 1.2).

**20** При желтом мигающем сигнале светофора перекресток считается нерегулируемым (п. 13.3). Значит, не имея «помехи справа» на перекрестке равнозначных дорог, Вы пользуетесь преимуществом в движении.



Тест 13. ПЕРЕКРЕСТКИ РАВНОЗНАЧНЫХ ДОРОГ

В каких позициях, управляя красным автомобилем, вы имеете право проехать перекресток первым?



## Тест 13. ПЕРЕКРЕСТКИ РАВНОЗНАЧНЫХ ДОРОГ


		Правильные ответы:											
Позиции автомобилей	4	5	6	8	9	12	14	17	18				

## КОММЕНТАРИИ К ТЕСТУ ПО ПОЗИЦИЯМ:

- 1** На перекрестке равнозначных дорог Вы не должны уступать дорогу автомобилю, приближающемуся слева (п. 13.11, 1 абз.). Однако обязаны уступить дорогу трамваю, так как на таком перекрестке трамвай имеет преимущество независимо от направления его движения (п. 13.11, 2 абз.).
- 2** На перекрестке равнозначных дорог Вы обязаны уступить дорогу всем транспортным средствам, приближающимся справа (п. 13.11), в том числе и велосипедом (см. термин "Транспортное средство", п. 1.2).
- 3** Поскольку на перекрестке отсутствуют знаки приоритета, Вы не имеете преимущества и должны уступить дорогу транспортному средству, приближающемуся справа (п. 13.11, 1 абз.).
- 4** В данной ситуации, выполняя поворот направо на перекрестке равнозначных дорог, Вы не имеете "помехи справа" на пути движения и поэтому можете двигаться одновременно с другими.
- 5** Вы въезжаете на перекресток равнозначных дорог. Поворачивая направо, Вы, в отличие от водителя, выполняющего разворот, не имеете "помехи справа" на пути своего движения и не должны уступать ему дорогу.
- 6** Поскольку отсутствуют знаки приоритета, Вы находитесь на перекрестке равнозначных дорог. Следовательно, не имея "помехи справа", Вы можете проехать перекресток первым.
- 7** Примакающая справа второстепенная дорога с грунтовым покрытием при наличии знака 1.6 "Пересечение равнозначных дорог" становится равной по значению той, по которой Вы движетесь. Поэтому нужно уступить дорогу автомобилю, приближающемуся справа (п. 13.11, 1 абз.).
- 8** Водитель автомобиля с включенным проблесковым маячком оранжевого (желтого) цвета не имеет преимущественного права на движение (п. 3.4, 2 абз.). Вы, не имея "помехи справа" на перекрестке равнозначных дорог, можете проехать первым (п. 13.11, 1 абз.).
- 9** Знак 4.3 "Круговое движение" указывает лишь разрешенные направления движения, но не определяет очередности. Поэтому, не имея на перекрестке равнозначных дорог "помехи справа", Вы можете въехать на него первым.
- 10** Двигаясь по перекрестку равнозначных дорог с круговым движением (знак 4.3 "Круговое движение"), Вы обязаны уступить дорогу трамваю независимо от направления его движения (п. 13.11, 2 абз.).
- 11** Водитель автомобиля с включенным проблесковым маячком синего цвета и специальным звуковым сигналом имеет преимущественное право на движение перед другими транспортными средствами (п. 3.1). Вы обязаны уступить ему дорогу, даже не имея "помехи справа" на перекрестке равнозначных дорог.
- 12** На перекрестке равнозначных дорог трамвай имеет преимущество, но в данной ситуации ваши пути движения не пересекаются поэтому можно проехать перекресток одновременно с трамваем.
- 13** На перекрестке равнозначных дорог Вы обязаны уступить дорогу трамваю независимо от направления его движения (п. 13.11, 2 абз.).
- 14** Поскольку на данном перекрестке отсутствуют знаки приоритета, Вы можете въехать на перекресток первым при отсутствии "помехи справа" на пути своего движения.
- 15** Не имея "помехи справа", Вы, тем не менее, обязаны уступить дорогу автомобилю с включенным проблесковым маячком синего цвета и специальным звуковым сигналом — он имеет преимущественное право на движение (п. 3.1).
- 16** На перекрестке равнозначных дорог Вы обязаны уступить дорогу всем транспортным средствам, приближающимся справа (п. 13.11), в том числе и гужевой повозке (см. термин "Транспортное средство", п. 1.2).
- 17, 18** Поскольку отсутствуют знаки приоритета, Вы находитесь на перекрестке равнозначных дорог. Следовательно, не имея "помехи справа", Вы можете проехать его первым (п. 13.11).
- 19** На перекрестке равнозначных дорог Вы обязаны уступить дорогу автомобилю, приближающемуся справа (п. 13.11). Однако трамвай имеет преимущество на движение (п. 13.11, 2 абз.), но это не дает Вам права проехать перекресток вместе с трамваем.
- 20** При наличии "помехи справа" на перекрестке равнозначных дорог Вы обязаны уступить дорогу автомобилю, поворачивающему налево (п. 13.11).



**Тест 14. ПЕРЕКРЕСТКИ НЕРАВНОЗНАЧНЫХ ДОРОГ**  
 В каких позициях, управляя красным автомобилем, вы имеете право проехать перекресток первым?



## Тест 14. ПЕРЕКРЕСТКИ НЕРАВНОЗНАЧНЫХ ДОРОГ

Правильные ответы:

Позиции автомобилей	2	4	5	6	9	12	13	15	16	17
---------------------	---	---	---	---	---	----	----	----	----	----

## КОММЕНТАРИИ К ТЕСТУ ПО ПОЗИЦИЯМ:

- 1** Знак 2.4 “Уступите дорогу” с табличкой 7.13 “Направление главной дороги” обязывает Вас уступить дорогу автомобилю, приближающемуся справа по главной дороге (п. 13.9).
- 2** При желтом мигающем сигнале светофора перекресток считается нерегулируемым (п. 13.3, 2 абз.). Находясь на главной дороге (знак 2.1 “Главная дорога”), Вы имеете преимущество в движении по отношению к автомобилю, приближающемуся справа по второстепенной дороге (п. 13.9).
- 3** Дорога с покрытием по отношению к грунтовой дороге считается главной (п. 1.2, термин “Главная дорога”). Однако, даже двигаясь по главной дороге, Вы обязаны уступить дорогу автомобилю с включенным проблесковым маячком синего цвета и специальным звуковым сигналом (п. 3.2).
- 4** Двигаясь по главной дороге (знак 2.1 “Главная дорога”), Вы проезжаете перекресток первым и не должны уступать дорогу автомобилю, приближающемуся справа по второстепенной дороге (п. 13.9).
- 5** Двигаясь по главной дороге (знак 2.3.1 “Пересечение с второстепенной дорогой”), Вы имеете преимущество по отношению ко всем транспортным средствам, движущимся по пересекаемой дороге (п. 13.9).
- 6** Знак 2.1 “Главная дорога” с табличкой 7.13 “Направление главной дороги” информирует о том, что Вы вместе с другим водителем въезжаете на перекресток по главной дороге. Между собой Вы должны руководствоваться правилами проезда перекрестков равнозначных дорог (п. 13.10). Не имея “помехи справа”, Вы можете проехать перекресток первым (п. 13.11).
- 7** Знак 2.4 “Уступите дорогу” с табличкой 7.13 “Направление главной дороги” обязывает Вам уступить дорогу всем транспортным средствам, въезжающим на перекресток по главной дороге (п. 13.9), в том числе и велосипедом (п. 1.2, термин “Транспортное средство”).
- 8** Знак 2.1 “Главная дорога” с табличкой 7.13 “Направление главной дороги” информирует о том, что Вы вместе с трамваем въезжаете на перекресток по главной дороге. Между собой Вы должны руководствоваться правилами проезда перекрестков равнозначных дорог (п. 13.10), где трамвай имеет преимущество (п. 13.11, 2 абз.).
- 9** Въезжая на перекресток по главной дороге (знак 2.1 “Главная дорога”), Вы не должны уступать дорогу водителю автомобиля, приближающегося слева по второстепенной дороге — его включенный проблесковый маячок оранжевого (желтого) цвета не дает преимущества в движении (п. 3.4, 2 абз.).
- 10** Знак 2.4 “Уступите дорогу” с табличкой 7.13 “Направление главной дороги” обязывает Вас уступить дорогу всем транспортным средствам, движущимся по главной дороге (п. 13.9), в том числе и гужевой повозке (п. 1.2, термин “Транспортное средство”).
- 11** Поворачивая налево, Вы обязаны уступить дорогу пешеходам, переходящим проезжую часть, на которую выезжаете (п. 13.1).
- 12** При желтом мигающем сигнале светофора перекресток считается нерегулируемым (п. 13.3, 2 абз.). Здесь Вы обязаны руководствоваться правилами проезда нерегулируемых перекрестков и установленными перед ними знаками приоритета. Знак 2.4 “Уступите дорогу” информирует Вас о том, что встречный автомобиль, как и Ваш, въезжает на перекресток по второстепенной дороге. Имея равное право на движение, Вы не должны уступать дорогу встречному автомобилю, поворачивающему налево (п. 13.12).
- 13** Въезжая на перекресток по главной дороге (знак 2.1 “Главная дорога”) вместе с трамваем, Вы не должны уступать дорогу автомобилю, приближающемуся слева по второстепенной дороге (п. 13.9).
- 14** Даже въезжая на перекресток по главной дороге (знак 2.1 “Главная дорога”), Вы обязаны уступить дорогу автомобилю с включенным проблесковым маячком синего цвета и специальным звуковым сигналом (п. 3.2).
- 15** Дорога с покрытием по отношению к грунтовой дороге считается главной (п. 1.2, термин “Главная дорога”). Въезжая на перекресток по главной дороге, Вы не должны уступать дорогу автомобилю, въезжающему на перекресток по грунтовой дороге.
- 16** Грунтовая дорога по отношению к дороге с покрытием считается второстепенной (п. 1.2, термин “Главная дорога”). Въезжая вместе со встречным автомобилем на перекресток по второстепенной дороге, Вы обязаны руководствоваться правилами проезда перекрестков равнозначных дорог (п. 13.10). Не имея “помехи справа”, Вы можете проехать перекресток первым (п. 13.11).
- 17** Въезжая на перекресток по главной дороге (знак 2.1 “Главная дорога”), Вы имеете преимущество по отношению к автомобилю, приближающемуся справа по второстепенной дороге (п. 13.9).
- 18** Вы вместе с трамваем въезжаете на перекресток по главной дороге (знак 2.1 “Главная дорога”) и обязаны уступить ему дорогу (п. 13.11, 2 абз.).
- 19** Поворачивая направо (налево), Вы обязаны уступить дорогу пешеходам, переходящим проезжую часть, на которую выезжаете (п. 13.1). Кроме этого, совершая поворот с трамвайных путей встречного направления (п. 9.6), Вы нарушаете Правила.
- 20** Знак 2.4 “Уступите дорогу” с табличкой 7.13 “Направление главной дороги” обязывает Вас уступить дорогу всем транспортным средствам, въезжающим на перекресток по главной дороге (п. 13.9).



**Тест 15. ПЕРЕКРЕСТОК НЕРАВНОЗНАЧНЫХ ДОРОГ**

В каких позициях, управляя красным автомобилем, вы имеете право проехать перекресток первым?



## Тест 15. ПЕРЕКРЕСТКИ НЕРАВНОЗНАЧНЫХ ДОРОГ

Правильные ответы:

Позиции автомобилей	1	4	5	6	8	9	14	15	16	20
---------------------	---	---	---	---	---	---	----	----	----	----

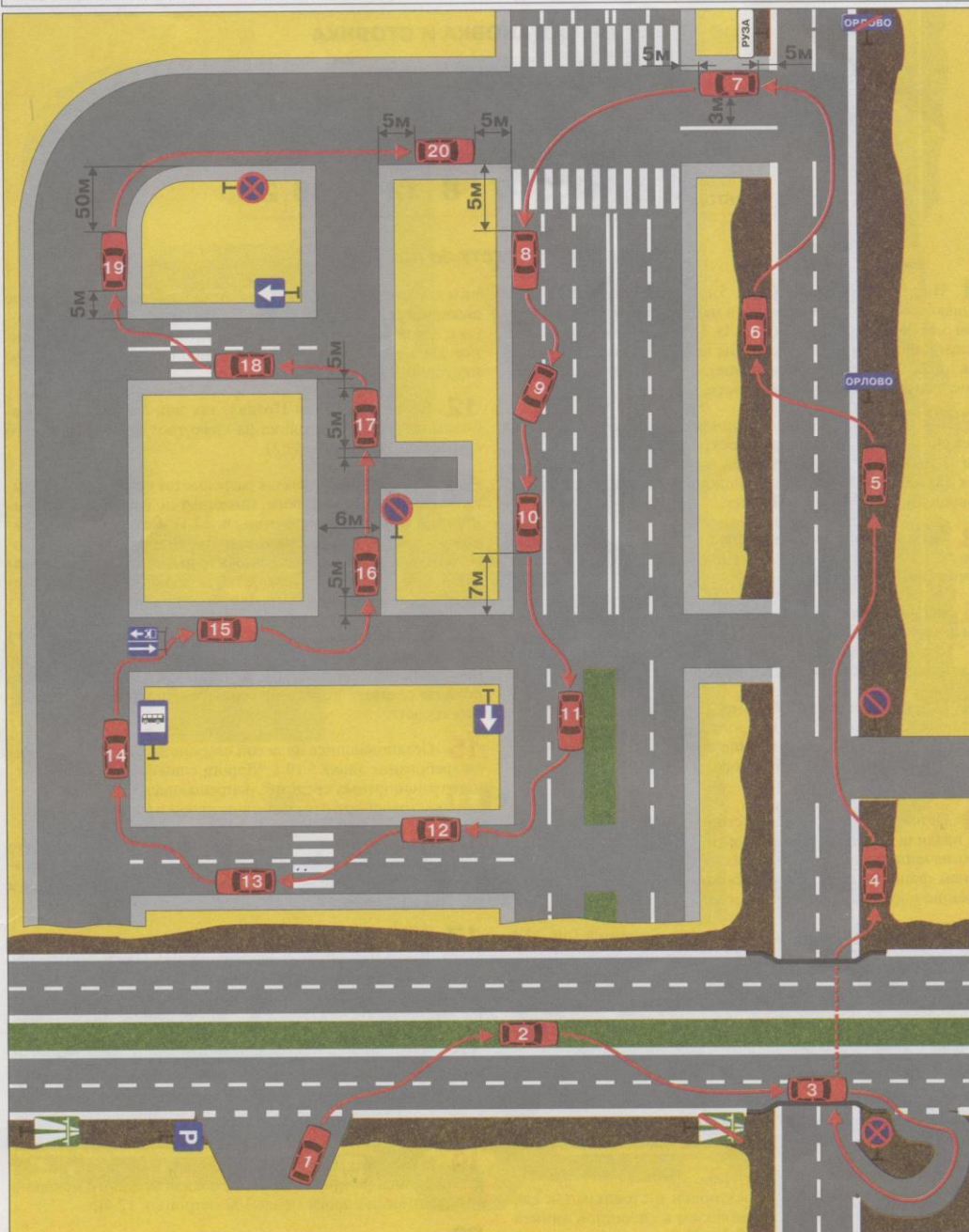
## КОММЕНТАРИИ К ТЕСТУ ПО ПОЗИЦИЯМ:

- 1** Въезжая на перекресток по главной дороге (знак 2.1 "Главная дорога" и табличка 7.13 "Направление главной дороги"), Вы имеете преимущество по отношению к встречному автомобилю, движущемуся по второстепенной дороге, независимо от направления Вашего движения (п. 13.9).
- 2** Двигаясь по главной дороге (знак 2.1 "Главная дорога"), Вы имеете преимущество по отношению к автомобилю, приближающемуся справа по второстепенной дороге. Однако Вы должны уступить дорогу автомобилю с включенным проблесковым маячком синего цвета и специальным звуковым сигналом (п. 3.2), водитель которого имеет право выполнить левый поворот не из крайнего левого положения (п. 3.1, 1 абз.).
- 3** Въезжая на перекресток по второстепенной дороге (знак 2.4 "Уступите дорогу"), Вы должны уступить дорогу автомобилю, приближающемуся по пересекаемой главной дороге, независимо от направления его дальнейшего движения (п. 13.9).
- 4** Двигаясь по главной дороге (знак 2.1 "Главная дорога"), Вы имеете преимущество в движении по отношению к автомобилям, въезжающим на перекресток по пересекаемой второстепенной дороге (п. 13.9).
- 5** Водитель автомобиля с включенным проблесковым маячком оранжевого (желтого) цвета не имеет преимущества в движении (п. 3.4, 2 абз.). Двигаясь по главной дороге (знак 2.1 "Главная дорога"), Вы имеете право проехать перекресток первым (п. 13.9).
- 6** Въезжая на перекресток по главной дороге (знак 2.1 "Главная дорога"), Вы имеете преимущество в движении по отношению ко всем транспортным средствам, въезжающим по пересекаемой дороге, в том числе и к трамваям (п. 13.9).
- 7** Водитель встречного автомобиля, как и Вы, въезжает на перекресток по главной дороге (знак 2.1 "Главная дорога"). Имея равное право на движение, Вы обязаны при повороте налево уступить дорогу встречному автомобилю, движущемуся прямо (п. 13.12).
- 8** Знак 2.4 "Уступите дорогу" с табличкой 7.13 "Направление главной дороги" информирует о том, что Вы вместе с другим водителем въезжаете на перекресток по второстепенной дороге и, следовательно, между собой должны руководствоваться правилами проезда перекрестков равнозначных дорог (п. 13.19). Не имея "помехи справа", Вы можете проехать перекресток первым (п. 13.11).
- 9** Въезжая на перекресток по главной дороге (знак 2.1 "Главная дорога" и табличка 7.13 "Направление главной дороги"), Вы имеете преимущество по отношению к автомобилю, приближающемуся справа по второстепенной дороге, независимо от направления Вашего движения (п. 13.9).
- 10** Водитель трамвая, как и Вы, въезжает на перекресток по главной дороге (знак 2.1 "Главная дорога"). Имея равное право на движение, Вы обязаны уступить дорогу трамваю независимо от направления его движения (п. 13.11, 2 абз.).
- 11** Въезжая на перекресток с круговым движением (знак 4.3 "Круговое движение") при наличии знака 2.4 "Уступите дорогу", Вы обязаны уступить дорогу автомобилю, движущемуся по пересекаемой дороге (п. 13.9).
- 12** Въезжая на перекресток по второстепенной дороге (знак 2.4 "Уступите дорогу"), Вы обязаны уступить дорогу автомобилю, движущемуся по пересекаемой дороге (п. 13.9).
- 13** Вы вместе с трамваем въезжаете на перекресток по главной дороге (знак 2.1 "Главная дорога"). Имея равное право на движение, Вы обязаны уступить дорогу трамваю (п. 13.11, 2 абз.).
- 14** Знак 2.4 "Уступите дорогу" информирует Вас о том, что встречный троллейбус, как и Вы, въезжает на перекресток по второстепенной дороге. Имея равное право на движение, Вы не должны уступать дорогу встречному троллейбусу, поворачивающему налево (п. 13.12).
- 15** В данной ситуации Вы въезжаете на перекресток по второстепенной дороге (знак 2.4 "Уступите дорогу"). Убедившись в том, что поворачивая налево, Вы не мешаете выполнить правый поворот движущемуся по главной дороге автомобилю, можно проехать одновременно с этим автомобилем.
- 16** Знак 2.1 "Главная дорога" с табличкой 7.13 "Направление главной дороги" информирует о том, что Вы вместе с другим водителем въезжаете на перекресток по главной дороге. Между собой Вы должны руководствоваться правилами проезда перекрестков равнозначных дорог (п. 13.10). Не имея "помехи справа", Вы можете проехать перекресток первым (п. 13.11).
- 17** Велосипедист, как и Вы, въезжает на перекресток по главной дороге (знак 2.1 "Главная дорога"). Имея равное право на движение, Вы обязаны при левом повороте уступить дорогу всем встречным транспортным средствам, движущимся прямо, в том числе и велосипеду (п. 13.12 и п. 1.2, термин "Транспортное средство").
- 18, 19** Въезжая на перекресток по второстепенной дороге (знак 2.4 "Уступите дорогу"), Вы обязаны уступить дорогу всем транспортным средствам, движущимся по пересекаемой дороге, в том числе и велосипеду (п. 13.9 и п. 1.2, термин "Транспортное средство").
- 20** В данной ситуации Вы въезжаете на перекресток по второстепенной дороге (знак 2.4 "Уступите дорогу"). Убедившись в том, что Вы не мешаете выполнить правый поворот автомобилю, движущемуся по главной дороге, можно повернуть направо одновременно с этим автомобилем.



**Тест 16. ОСТАНОВКА И СТОЯНКА**

Укажите позиции, в которых, управляя красным автомобилем, вы имеете право остановиться или поставить автомобиль на стоянку?



## Тест 16. ОСТАНОВКА И СТОЯНКА

Вы имеете право остановиться:

Позиции автомобилей	1	5	7	8	12	14	16	17	20
------------------------	---	---	---	---	----	----	----	----	----

Вы имеете право поставить автомобиль на стоянку:

Позиции автомобилей	1	5	7	8	12	14	16	20
------------------------	---	---	---	---	----	----	----	----

## КОММЕНТАРИИ К ТЕСТУ ПО ПОЗИЦИЯМ:

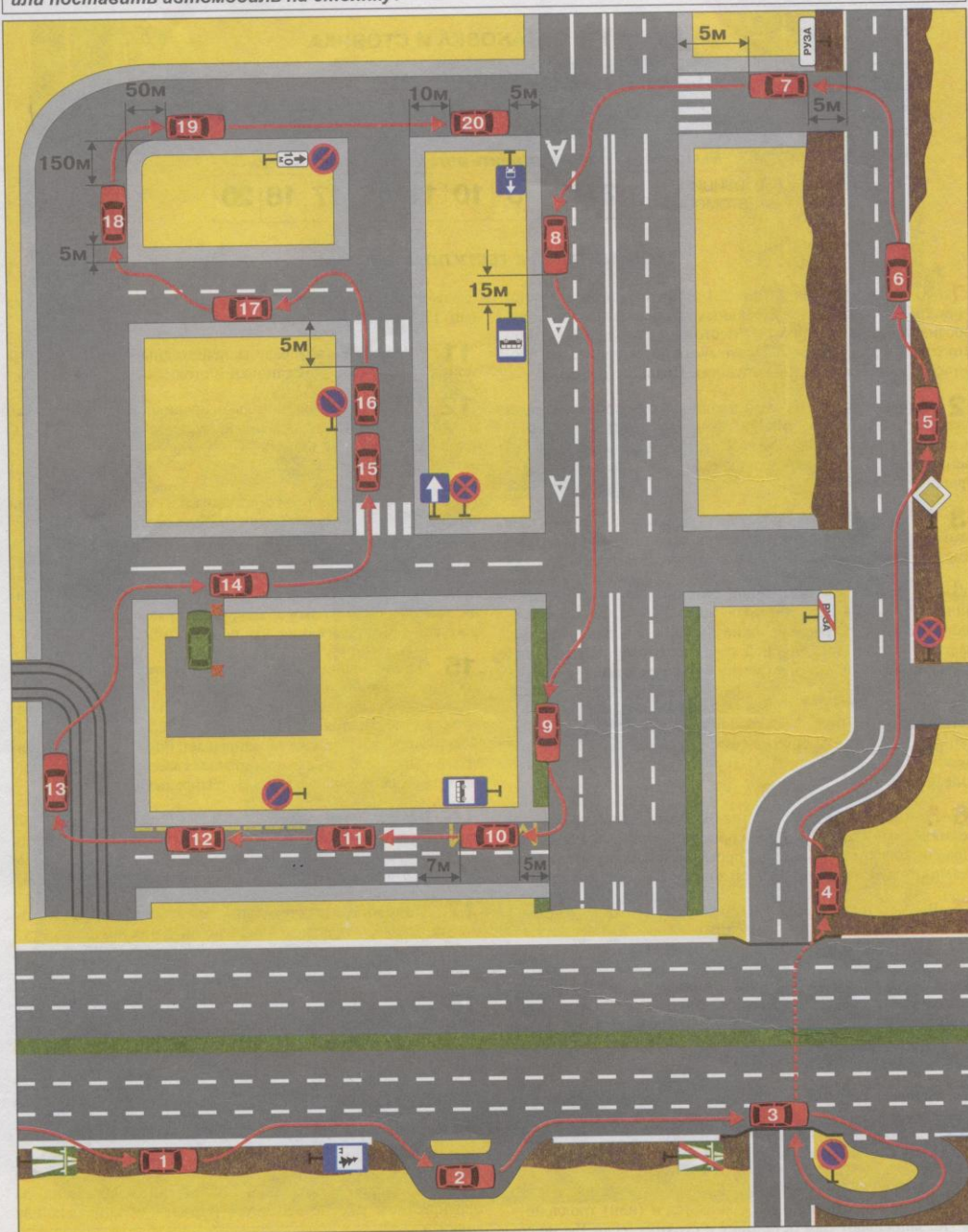
- 1** На автомагистралях (знак 5.1 "Автомагистраль") разрешаются остановка и стоянка в местах, обозначенных знаком 5.15 "Место стоянки" (п. 16.1). Поставив автомобиль под углом к краю проезжей части, Вы не нарушили Правил, так как п. 12.2 допускает иное расположение транспортных средств в местах уширения проезжей части.
- 2** Вы нарушили правила остановки и стоянки, так как заехали на разделительную полосу, которая, в соответствии с п. 2.1 (термин "Разделительная полоса"), не используется для движения и остановки транспортных средств. Вы также нарушили пп. 16.1 и 12.1 Правил.
- 3** Нельзя производить остановку и стоянку на мосту, если имеется меньше трех полос для движения в одном направлении (пп. 12.4 и 12.5).
- 4** Вы нарушили правила остановки и стоянки, остановившись в зоне действия знака 3.27 "Остановка запрещена" (Прил. 1, "Запрещающие знаки"), которая не прерывается в местах пересечения дорог, расположенных в разных уровнях.
- 5** Остановившись на обочине, Вы не нарушили правил остановки и стоянки, так как зона действия ранее установленного знака 3.28 "Стоянка запрещена" закончилась после проезда примыкающей слева дороги (Прил. 1, "Запрещающие знаки").
- 6** Остановившись на левой стороне дороги, Вы нарушили правила остановки и стоянки (п. 12.1, 2 абз.). На дороге, обозначенной знаком 5.24 "Начало населенного пункта" на синем фоне, не действуют требования Правил, устанавливающие порядок движения в населенных пунктах.
- 7** Вы не нарушили правил остановки и стоянки (пп. 12.4 и 12.5), обеспечив расстояние в 3 метра от остановившегося автомобиля до сплошной линии разметки и 5 м до и после пересечения проезжих частей.
- 8** Вы не нарушили правил остановки и стоянки, остановившись сразу за пешеходным переходом в 5 метрах от края пересекаемой проезжей части (пп. 12.4 и 12.5).
- 9** Вы нарушили правила остановки и стоянки, так как ставить автомобиль под углом допускается только в местах уширения проезжей части или местах, обозначенных соответствующими знаками (п. 12.2).
- 10** Вы нарушили правила остановки и стоянки, так как расстояние между Вашим автомобилем и сплошной линией разметки менее 3 метров (пп. 12.4 и 12.5).
- 11** Пункт 12.1 Правил разрешает остановку и стоянку в населенных пунктах на левой стороне дороги с односторон-
- ним движением. В данной ситуации на дороге двустороннее движение. Поэтому, остановившись у разделительной полосы с левой стороны проезжей части, имеющей одностороннее движение (знак 5.5 "Одностороннее движение"), Вы нарушили Правила.
- 12** Вы не нарушили Правил, так как легковым автомобилям разрешается стоянка на краю тротуара, граничащего с проезжей частью (п. 12.2).
- 13** В населенных пунктах разрешается остановка и стоянка на левой стороне дороги, имеющей по одной полосе движения в каждом направлении (п. 12.1). Однако, остановившись в данном месте, Вы ограничили видимость пешеходного перехода водителям встречных транспортных средств, нарушая при этом п. 12.4 Правил, обязывающий водителей обеспечить расстояние в 5 метров до пешеходного перехода.
- 14** Остановившись в месте, обозначенном знаком 5.12 "Место остановки автобуса и (или) троллейбуса", Вы не нарушили пп. 12.4 и 12.5 Правил, так как в данной ситуации пока не создаете помех движению маршрутных транспортных средств.
- 15** Остановившись на левой стороне дороги, Вы нарушили требование знака 5.10.1 "Дорога с полосой для маршрутных транспортных средств", запрещающего движение и остановку транспортных средств на левой полосе (п. 18.2).
- 16** При отсутствии сплошной линии разметки Вы имеете право поставить транспортное средство на остановку и стоянку у тротуара даже на дороге, имеющей по одной полосе в каждом направлении.
- 17-17\*** Остановившись в 5 метрах от места выезда из двора, Вы не нарушили правил остановки. Однако поставить автомобиль на стоянку Вам запрещает знак 3.28 "Стоянка запрещена", зона действия которого не прерывается в местах выезда из дворов (Прил. 1, "Запрещающие знаки").
- 18** Остановиться на левой стороне дороги с односторонним движением в данном случае можно (п. 12.1 Правил). Однако при этом Вы должны были остановиться в 5 метрах перед пешеходным переходом. Поэтому Вы нарушили правила остановки и стоянки (пп. 12.4 и 12.5).
- 19** Вы нарушили правила остановки и стоянки, так как остановились на проезжей части вблизи опасного поворота при видимости дороги менее 100 метров (п. 12.4).
- 20** Вы правильно остановились за перекрестком, где прекращает свое действие знак 3.27 "Остановка запрещена" (Прил. 1, "Запрещающие знаки").

\* - здесь и далее цвет первого числа означает правильный ответ по условиям остановки, а второго числа — по условиям стоянки



Тест 17. ОСТАНОВКА И СТОЯНКА

Укажите позиции, в которых, управляя красным автомобилем, вы имеете право остановиться или поставить автомобиль на стоянку?



## Тест 17. ОСТАНОВКА И СТОЯНКА

Вы имеете право остановиться:

Позиции автомобилей	2	3	4	5	6	10	11	12	15	17	18	20
---------------------	---	---	---	---	---	----	----	----	----	----	----	----

Вы имеете право поставить автомобиль на стоянку:

Позиции автомобилей	2	3	5	10	11	15	17	18	20
---------------------	---	---	---	----	----	----	----	----	----

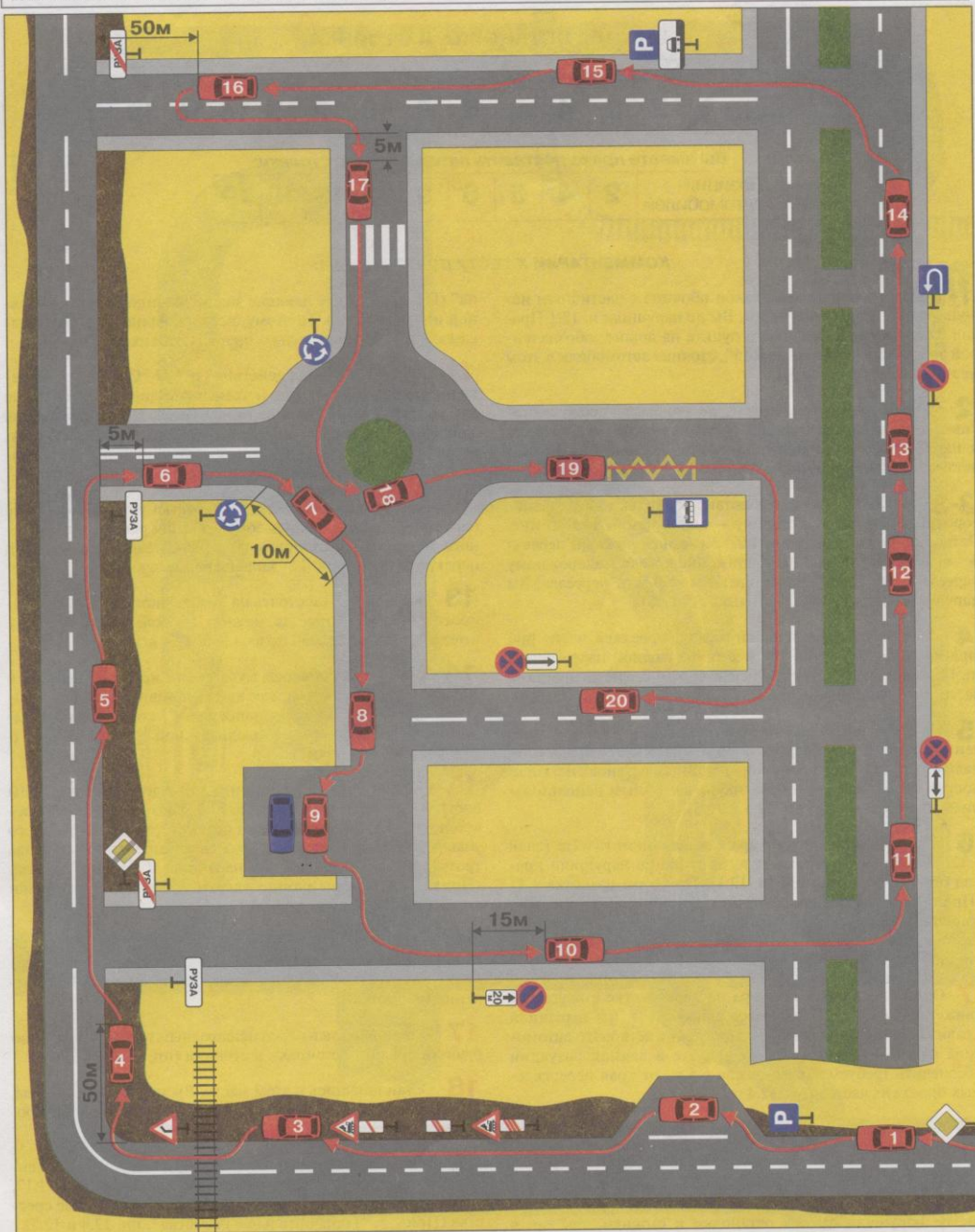
## КОММЕНТАРИИ К ТЕСТУ ПО ПОЗИЦИЯМ:

- 1** На автомагистрали (знак 5.1 "Автомагистраль") остановка и стоянка вне специальных площадок для стоянки, обозначенных знаками 5.15 "Место стоянки" или 6.11 "Место отдыха", запрещены. Поэтому, остановившись на обочине автомагистрали, Вы нарушили Правила (п. 16.1).
- 2** Остановившись на магистрали в месте, обозначенном знаком 6.11 "Место отдыха", Вы не нарушили правил остановки и стоянки. При этом, согласно п. 12.2, в местах уширения проезжей части допускается любое расположение транспортных средств.
- 3** Вы имеете право произвести остановку и стоянку на этом мосту, так как для движения в данном направлении имеется три полосы (пп. 12.4 и 12.5).
- 4-4** Вы нарушили правила стоянки, поставив автомобиль на стояку в зоне действия знака 3.28 "Стоянка запрещена" (Прил. 1, "Запрещающие знаки"), которая не прерывается в местах пересечения дорог, расположенных в разных уровнях. Остановка в этом месте Вам разрешена.
- 5** Остановившись на обочине, Вы не нарушили правил остановки и стоянки, так как зона действия ранее установленного знака 3.27 "Остановка запрещена" закончилась после проезда примыкающей слева дороги (Прил. 1, "Запрещающие знаки").
- 6-6** При отсутствии обочины Вы имеете право произвести остановку в указанном месте на проезжей части. Однако п. 12.5 Правил запрещает стоянку на проезжей части дороги вне населенного пункта, обозначенной знаком 2.1 "Главная дорога".
- 7** Вы нарушили Правила, так как остановка и стоянка ближе 5 метров перед пешеходным переходом запрещены (пп. 12.4 и 12.5).
- 8** При наличии пунктирной линии разметки Вы можете заехать на полосу, обозначенную знаком 5.9 "Полоса для маршрутных транспортных средств", только для посадки и высадки пассажиров. Использовать эту полосу для остановки и стоянки запрещается (п. 18.2).
- 9** Правила разрешают стоянку легковых автомобилей на краю тротуара, граничащего с проезжей частью (п. 12.2). В данной ситуации между тротуаром и проезжей частью имеется газон, поэтому в этом месте остановка и стоянка запрещены.
- 10** Разметка 1.17 (Прил. 2, "Горизонтальная разметка") и знак 5.12 "Место остановки автобуса и (или) троллейбуса" не запрещают Вам остановку и стоянку, если Вы не создаете помех в движении маршрутных транспортных средств (пп. 12.4 и 12.5).
- 11** Остановившись сразу за пешеходным переходом, Вы не нарушили правил остановки и стоянки (пп. 12.4 и 12.5).
- 12-12** Вы нарушили только правила стоянки, так как разметка 1.10 (Прил. 2, "Горизонтальная разметка"), уточняет зону действия знака 3.28 "Стоянка запрещена", но не запрещает остановку.
- 13** Вы нарушили правила остановки и стоянки, так как при наличии трамвайных путей посередине остановка, а следовательно, и стоянка с левой стороны дороги запрещены (п. 12.1).
- 14** Остановившись в этом месте, Вы нарушаете правила остановки и стоянки, так как вынуждаете водителя автомобиля, выезжающего из двора, завершить правый поворот на полосу встречного движения, что противоречит п. 8.6 Правил.
- 15** Остановившись в населенном пункте на левой стороне дороги с односторонним движением (знак 5.5 "Одностороннее движение") за пешеходным переходом, Вы не нарушили правил остановки и стоянки (пп. 12.1, 12.4 и 12.5). Знак 3.27 "Остановка запрещена" также не запрещает Вам остановку в указанном месте, так как распространяет свое действие только на правую сторону дороги (Прил. 1, "Запрещающие знаки").
- 16** Несмотря на то, что знак 3.28 "Стоянка запрещена" запрещает только стоянку в указанном месте, Вы нарушили и правила остановки, так как должны были остановиться не ближе чем за 5 метров перед пешеходным переходом (п. 12.4).
- 17** На дороге с двусторонним движением, имеющей по одной полосе в каждом направлении, можно произвести остановку и стоянку в населенном пункте с левой стороны дороги (п. 12.1).
- 18** Вы не нарушили правил остановки, а следовательно, и стоянки, так как остановились в 5 метрах от края пересекаемой проезжей части (пп. 12.4 и 12.5).
- 19** Вам запрещены остановка и стоянка на проезжей части в местах, где видимость дороги менее 100 м хотя бы в одном направлении. Поэтому, остановившись сразу за опасным поворотом, Вы нарушили пп. 12.4 и 12.5 Правил.
- 20** Вам разрешена не только остановка, но и стоянка в указанном месте, так как знак 3.28 "Стоянка запрещена" за перекрестком уже не действует (Прил. 1, "Запрещающие знаки").



### Тест 18. ОСТАНОВКА И СТОЯНКА

Укажите позиции, в которых, управляя красным автомобилем, вы имеете право остановиться или поставить автомобиль на стоянку?



## Тест 18. ОСТАНОВКА И СТОЯНКА

Вы имеете право остановиться:

Позиции автомобилей	1	2	3	4	5	6	9	10	12	13	14	16	19
---------------------	---	---	---	---	---	---	---	----	----	----	----	----	----

Вы имеете право поставить автомобиль на стоянку:

Позиции автомобилей	2	4	5	6	9	12	13	16	19
---------------------	---	---	---	---	---	----	----	----	----

## КОММЕНТАРИИ К ТЕСТУ ПО ПОЗИЦИЯМ:

**1-1** Остановившись на узкой обочине с частичным использованием проезжей части, Вы не нарушили п. 12.1 Правил. Однако вне населенного пункта на дороге, обозначенной знаком 2.1 "Главная дорога", стоянка автомобиля в этом месте запрещена (п. 12.5).

**2** Знак 5.15 "Место стоянки" не уточняет способ постановки автомобиля на стоянку. Поэтому можно остановиться и параллельно краю проезжей части, не нарушив правил остановки и стоянки.

**3-3** Правила запрещают остановку только на железнодорожных переездах, а стоянку — ближе чем за 50 м от них. Остановившись за знаками 1.2 "Железнодорожный переезд без шлагбаума" и 1.4.3 "Приближение к железнодорожному переезду", которые устанавливаются в 50 м от переезда, Вы нарушили только правила стоянки (п. 12.5).

**4** Правила запрещают остановку на проезжей части при видимости дороги менее 100 м хотя бы в одном направлении (п. 12.4). Однако, остановившись на обочине, а не на проезжей части, Вы не нарушаете правил остановки и стоянки (п. 12.1).

**5** Находясь вне населенного пункта на дороге, не обозначенной знаком 2.1 "Главная дорога", Вы имеете право (при наличии узкой или неровной обочины) остановиться или поставить автомобиль на стоянку с частичным использованием проезжей части (пп. 12.1 и 12.5).

**6** Остановившись у тротуара в населенном пункте (знак 5.22 "Начало населенного пункта"), Вы не нарушили правил остановки и стоянки (п. 12.1). При этом разметка 1.11 (Прил. 2, "Горизонтальная разметка") допускает остановку (стоянку), даже если расстояние до нее меньше 3-х метров. Данное требование п. 12.4 Правил действует только при наличии сплошной линии разметки 1.1.

**7** Остановившись у тротуара на перекрестке с круговым движением (знак 4.3 "Круговое движение"), Вы нарушили правила остановки и стоянки. При длине легкового автомобиля около 4-х метров Вы не можете в данной ситуации обеспечить требуемое расстояние в 5 м от края пересекаемых проезжих частей (пп. 12.4 и 12.5).

**8** Остановившись на перекрестке, Вы нарушили правила остановки и стоянки (пп. 12.4 и 12.5).

**9** Правила разрешают ставить транспортные средства в один ряд параллельно краю проезжей части. Однако здесь Вы не нарушили правил остановки и стоянки, так как в местах уширения проезжей части возможно иное расположение транспортных средств (п. 12.2).

**10-10** Знак 7.2.2 "Зона действия" указывает место, с которого начинает действовать знак 3.28 "Стоянка запрещена" (Прил. 1, "Запрещающие знаки").

на" (Прил. 1, "Запрещающие знаки" и "Знаки дополнительной информации"). Поэтому, остановившись в 15 м за знаками, Вы нарушили только правила стоянки.

**11** Знаки 7.2.4 "Зона действия" и 3.27 "Остановка запрещена" информируют Вас о том, что остановка запрещена как перед знаками, так и за ними (Прил. 1, "Запрещающие знаки" и "Знаки дополнительной информации"). Поэтому, остановившись перед знаками, Вы нарушили правила остановки и, следовательно, стоянки.

**12** Остановившись после перекрестка у тротуара, Вы не нарушили Правил, так как зона действия ранее установленного знака 3.27 "Остановка запрещена" закончилась перед перекрестком (Прил. 1, "Запрещающие знаки").

**13** Остановиться и стоять на Т-образном перекрестке против бокового проезда можно, так как на перекрестке имеется разделительная полоса (пп. 12.4 и 12.5).

**14-14** Остановившись в указанном месте, Вы нарушили только правила стоянки, так как остановились в зоне действия знака 3.28 "Стоянка запрещена", которая не прерывается в местах разрыва разделительной полосы (Прил. 1, "Запрещающие знаки").

**15** Остановившись с частичным наездом на тротуар, Вы нарушили правила остановки (п. 12.2, 1 абз.). Знак 7.6.1 "Способ постановки автомобиля на стоянку", установленный со знаком 5.15 "Место стоянки", разрешает стоянку только вдоль тротуара. Следовательно, Вы нарушили и правила стоянки (Прил. 1, "Информационно-указательные знаки" и "Знаки дополнительной информации").

**16** Остановившись в 50 м от Т-образного перекрестка, Вы не нарушили правил остановки и стоянки, так как наличие перекрестка не приравнивается к условиям ограниченной видимости.

**17** Остановившись перед пешеходным переходом, Вы нарушили правила остановки и стоянки (пп. 12.4 и 12.5).

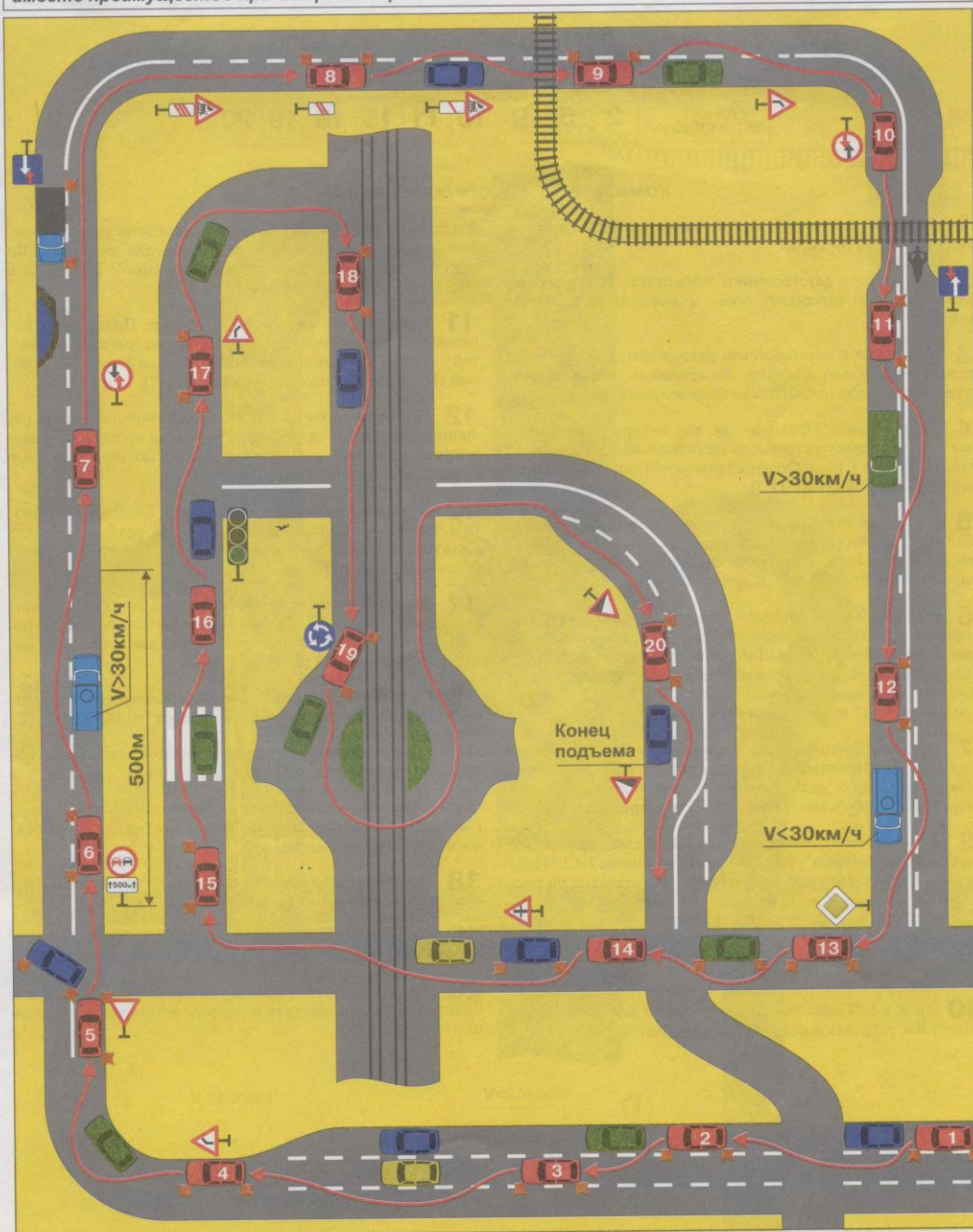
**18** Остановившись в этом месте, Вы нарушили Правила, так как остановка и стоянка запрещены на пересечении проезжих частей (п. 12.4).

**19** Правила не запрещают остановку и стоянку даже вблизи остановочных площадок, обозначенных разметкой 1.17, если при этом отсутствуют маршрутные транспортные средства (Прил. 2, "Горизонтальная разметка", пп. 12.4 и 12.5).

**20** Знак 7.2.3 "Зона действия" указывает место, где заканчивается зона действия знака 3.27 "Остановка запрещена" (Прил. 1, "Запрещающие знаки" и "Знаки дополнительной информации"). Поэтому, остановившись перед знаками, Вы нарушили правила остановки и стоянки.



В каких позициях, управляя красным автомобилем, вы не нарушаете правила обгона или имеете преимущество при встречном разъезде?



## Тест 19. ОБГОН И ВСТРЕЧНЫЙ РАЗЪЕЗД

Правильные ответы:

Позиции автомобилей	2	5	9	10	11	15	18	19	20
------------------------	---	---	---	----	----	----	----	----	----

## КОММЕНТАРИИ К ТЕСТУ ПО ПОЗИЦИЯМ:

- 1** Обгон на нерегулируемых перекрестках равнозначных дорог запрещен (п. 11.5).
- 2** На дорогах с двусторонним движением, имеющих три полосы, можно совершить обгон с выездом на среднюю полосу (п. 9.3).
- 3** На дорогах с двусторонним движением, имеющих три полосы, запрещено выезжать на крайнюю левую полосу, предназначенную только для встречного движения (п. 9.3).
- 4** Вы нарушили Правила, так как совершили обгон с выездом на полосу встречного движения вблизи опасного поворота (знак 1.11.1 "Опасный поворот"), имеющего ограниченную видимость (п. 11.5).
- 5** На любых перекрестках Вы имеете право совершить обгон с правой стороны, если водитель обгоняемого автомобиля подал сигнал поворота налево и приступил к его выполнению (пп. 11.5 и 11.2).
- 6** Знак 3.20 "Обгон запрещен" запрещает обгон всех транспортных средств, в том числе и одиночных, движущихся со скоростью более 30 км/ч. Табличка 7.2.1 "Зона действия" указывает, что на протяжении 500 м Вы будете находиться в зоне действия запрещающего знака 3.20 (Прил. 1, "Запрещающие знаки" и "Знаки дополнительной информации").
- 7** Знак 2.6 "Преимущество встречного движения" обязывает Вас при затрудненном разъезде уступить дорогу встречному автомобилю, даже если на Вашей полосе движения отсутствует препятствие (Прил. 1, "Знаки приоритета").
- 8** По ходу Вашего движения знак 1.2 "Железнодорожный переезд без шлагбаума", установленный со знаком 1.4.3 "Приближение к железнодорожному переезду", ставится на расстоянии не менее 50 м до переезда, а обгон запрещен за 100 м до переезда (п. 11.5, Прил. 1, "Предупреждающие знаки").
- 9** Совершая обгон за переездом, Вы не нарушаете п. 11.5 Правил.
- 10** Знак 2.6 "Преимущество встречного движения" обязывает Вас уступить дорогу встречному транспортному средству только при условии, если затруднен встречный разъезд. Так как на дороге имеется две полосы для движения, Вы имеете возможность проехать одновременно с мотоциклом (Прил. 1, "Знаки приоритета").
- 11** Совершая обгон, Вы не нарушаете Правил, так как разметку 1.11 разрешается пересекать со стороны прерывистой линии, а для завершения обгона — и со стороны сплошной (Прил. 2, "Горизонтальная разметка").
- 12** Начинать обгон со стороны сплошной линии при наличии разметки 1.11 запрещается, даже если обгоняемое транспортное средство движется со скоростью менее 30 км/ч (Прил. 2, "Горизонтальная разметка").
- 13** Двигаясь по главной дороге (знак 2.1 "Главная дорога"), Вы могли бы совершить обгон слева, если бы водитель движущегося впереди автомобиля не подал сигнал о повороте налево (п. 11.2).
- 14** Двигаясь по главной дороге (знак 2.3.2 "Примыкание второстепенной дороги"), Вы могли бы совершить обгон, если бы водитель движущегося впереди автомобиля не подал сигнал об обгоне (п. 11.2).
- 15** Вы можете совершить обгон на пешеходном переходе, так как пешеходы на нем отсутствуют (п. 11.5).
- 16** На регулируемых перекрестках обгон с выездом на полосу встречного движения запрещен (п. 11.5).
- 17** Обгон на участках дорог с ограниченной видимостью (знак 1.11.1 "Опасный поворот") с выездом на полосу встречного движения запрещен.
- 18** При обгоне разрешается выезжать на трамвайные пути попутного направления (п. 9.6).
- 19** На нерегулируемых перекрестках с круговым движением обгон разрешен (п. 11.5).
- 20** Вы не нарушаете Правил, так как совершаете обгон в конце подъема, не выезжая на полосу встречного движения (п. 11.5).



Тест 20. ОБГОН И ВСТРЕЧНЫЙ РАЗЪЕЗД

В каких позициях, управляя красным автомобилем, вы не нарушаете правила обгона или имеете преимущество при встречном разъезде?



## Тест 20. ОБГОН И ВСТРЕЧНЫЙ РАЗЪЕЗД

Правильные ответы:

Позиции автомобилей	1	2	5	7	10	13	14	16	17	19
---------------------	---	---	---	---	----	----	----	----	----	----

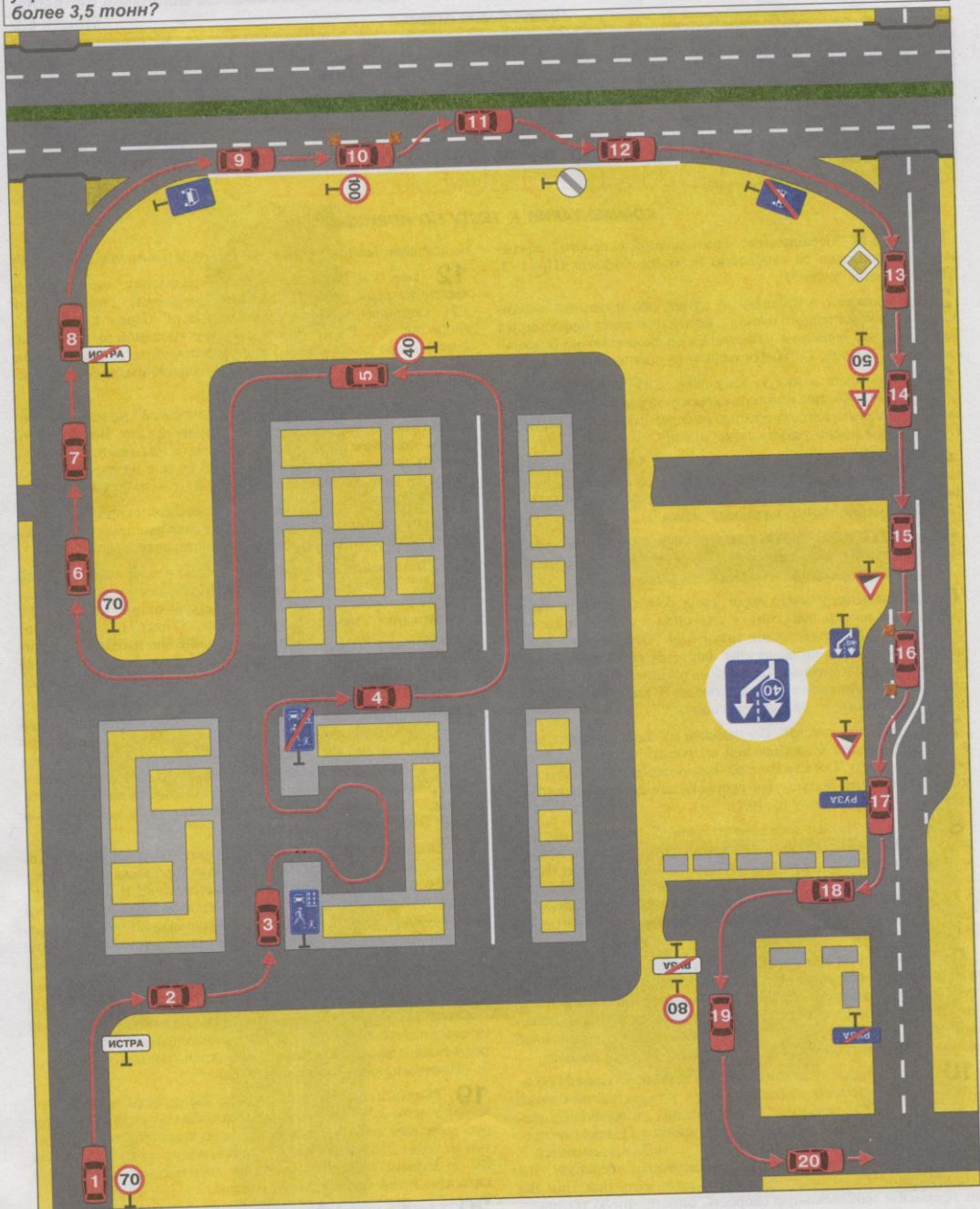
## КОММЕНТАРИИ К ТЕСТУ ПО ПОЗИЦИЯМ:

- 1** На нерегулируемых перекрестках при движении по дороге, не являющейся главной, обгон двухколесных транспортных средств без бокового прицепа разрешен (п. 11.5).
- 2** Обгоняя одиночное транспортное средство, движущееся со скоростью менее 30 км/ч, Вы не нарушаете требований знака 3.20 "Обгон запрещен" (Прил. 1, "Запрещающие знаки").
- 3** Находясь в зоне действия знака 3.20 "Обгон запрещен", Вы имели бы право совершить обгон одиночного автомобиля, движущегося со скоростью менее 30 км/ч (Прил. 1, "Запрещающие знаки"), если бы отсутствовала сплошная линия разметки 1.1, запрещающая выполнение обгона (Прил. 2, "Горизонтальная разметка").
- 4** Несмотря на то, что знак 3.21 "Конец зоны запрещения обгона" снял ранее установленные ограничения, Вы не имеете права совершать обгон по второстепенной дороге на нерегулируемом перекрестке (п. 11.5).
- 5** Табличка 7.1.1 "Расстояние до объекта", установленная под знаком 3.20 "Обгон запрещен", информирует водителей о том, что зона действия ограничения начнется только через 500 м. Поэтому в данной ситуации можно обгонять даже транспортные средства, движущиеся со скоростью более 30 км/ч (Прил. 1, "Знаки дополнительной информации").
- 6** На нерегулируемых перекрестках при движении по дороге, не являющейся главной, обгон запрещен (п. 11.5).
- 7** Вы имеете право проехать узкий участок, не уступая дороги встречному автомобилю, так как на Вашей полосе движения препятствия отсутствуют (п. 11.7).
- 8** В данной ситуации Вы движетесь под уклон (знак 1.13 "Крутой спуск"), поэтому при встречном разъезде обязаны уступить дорогу встречному автомобилю, несмотря на то, что на его полосе имеется препятствие (п. 11.7).
- 9** Обгон на железнодорожных переездах запрещен (п. 11.5).
- 10** Обгон запрещен на железнодорожных переездах и ближе чем за 100 м перед ними. После железнодорожного переезда обгонять можно.
- 11** Разметка 1.11 не запрещает Вам выполнить такой маневр (Прил. 2, "Горизонтальная разметка"), однако знак 3.20 "Обгон запрещен" разрешает обгонять лишь одиночные транспортные средства, движущиеся со скоростью менее 30 км/ч (Прил. 1, "Запрещающие знаки"). Поэтому обгон сразу двух автомобилей Вам запрещен.
- 12** Находясь в зоне действия знака 3.20 "Обгон запрещен" (Прил. 1, "Запрещающие знаки"), Вы могли бы совершить обгон одиночного автомобиля, движущегося со скоростью менее 30 км/ч (Прил. 1, "Запрещающие знаки"). Однако разметка 1.11, которую нельзя пересекать со стороны сплошной линии, запрещает Вам этот маневр.
- 13** На любых перекрестках Вы имеете право совершать обгон с правой стороны, если водитель обгоняемого автомобиля подал сигнал поворота налево и приступил к его выполнению (пп. 11.5 и 11.2).
- 14** Находясь на главной дороге (знак 2.3.2 "Примыкание второстепенной дороги"), Вы имеете право совершить маневр обгона (п. 11.5).
- 15** Обгон на пешеходном переходе запрещен при наличии на нем пешеходов (п. 11.5).
- 16** Вы не нарушили правил обгона на регулируемом перекрестке, так как при выполнении маневра не выехали на полосу встречного движения (п. 11.5).
- 17** Вы не нарушили правил обгона на участке с ограниченной видимостью, так как не выехали на полосу встречного движения.
- 18** Вы нарушили правила обгона, так как при выполнении маневра выехали на трамвайные пути встречного направления (п. 9.6).
- 19** Обгон на перекрестках с круговым движением разрешен (п. 11.5).
- 20** Выполняя обгон в конце подъема (знаки 1.13 и 1.14, Прил. 1, "Предупреждающие знаки") с выездом на полосу встречного движения, Вы нарушаете Правила.



**Тест 21. СКОРОСТЬ ДВИЖЕНИЯ**

**Тест 21. СКОРОСТЬ ДВИЖЕНИЯ**  
С какой предельно допустимой скоростью вы можете двигаться в каждой из указанных позиций, управляя легковым автомобилем или грузовым автомобилем с максимально разрешенной массой более 3,5 тонн?



## Тест 21. СКОРОСТЬ ДВИЖЕНИЯ

Правильные ответы:

Позиции автомобилей	1	2	3	4	5	6	7	8	9	10	11	12	13	14	15	16	17	18	19	20
Скорость движения легкового автомобиля, км/ч	70	60	20	60	40	70	60	90	90	100	100	90	90	50	90	90	90	60	80	90
Скорость движения грузового автомобиля полной массой более 3,5 т, км/ч	70	60	20	60	40	70	60	70	70	100	100	70	70	50	70	70	70	60	80	70

## КОММЕНТАРИИ К ТЕСТУ ПО ПОЗИЦИЯМ:

**1** Знак 3.24 «Ограничение максимальной скорости» обязывает Вас двигаться со скоростью не более 70 км/ч (Прил. 1, «Запрещающие знаки»).

**2** Вы въезжаете в населенный пункт, обозначенный знаком 5.22 «Начало населенного пункта». Белый фон знака информирует Вас о том, что движение разрешается со скоростью не более 60 км/ч (п. 10.2, Прил. 1, «Информационно-указательные знаки»).

**3** Вы въезжаете в жилую зону (знак 5.38 «Жилая зона») и, следовательно, обязаны изменить скоростной режим. В жилой зоне движение разрешается со скоростью не более 20 км/ч (п. 17.2, Прил. 1, «Информационно-указательные знаки»).

**4** После выезда из жилой зоны (знак 5.39 «Конец жилой зоны») Вы можете продолжить движение со скоростью, разрешенной в населенном пункте — не более 60 км/ч (п. 10.2, Прил. 1, «Информационно-указательные знаки»).

**5** Знак 3.24 «Ограничение максимальной скорости» обязывает Вас двигаться со скоростью не более 40 км/ч (Прил. 1, «Запрещающие знаки»).

**6** На отдельных участках дорог, где дорожные условия обеспечивают безопасность движения, в том числе и в населенных пунктах, могут быть установлены знаки 3.24 «Ограничение максимальной скорости», позволяющие двигаться со скоростью, превышающей установленный Правилами предел. В данной ситуации Вы можете двигаться со скоростью до 70 км/ч (Прил. 1, «Запрещающие знаки», п. 10.2, примечание).

**7** Проехав перекресток, Вы выехали из зоны действия знака 3.24 «Ограничение максимальной скорости» (Прил. 1, «Запрещающие знаки»). Так как Вы еще находитесь в населенном пункте, то предельно допустимая скорость для всех транспортных средств не более 60 км/ч (п. 10.2).

**8** Знак 5.23 «Конец населенного пункта» указывает место, с которого на данной дороге утрачивают силу требования Правил, устанавливающие порядок движения в населенных пунктах (Прил. 1, «Информационно-указательные знаки»). Поэтому, миновав знак 5.23, Вы можете двигаться на легковом автомобиле со скоростью до 90 км/ч, а на грузовом с разрешенной максимальной массой более 3,5 т — до 70 км/ч (п. 10.3).

**9** Вы въехали на дорогу, обозначенную знаком 5.3 «Дорога для автомобилей», расположенную вне населенного пункта. Такая дорога в соответствии с п. 1.2 не приравнивается к автомагистрали, поэтому Ваша предельно допустимая скорость движения на легковом автомобиле — не более 90 км/ч, а на грузовом с разрешенной максимальной массой более 3,5 т — не более 70 км/ч (п. 10.3).

**10** На отдельных участках дорог, где дорожные условия обеспечивают безопасность движения, могут устанавливаться знаки 3.24 «Ограничение максимальной скорости», позволяющие двигаться со скоростью, большей установленного Правилами предела (Прил. 1, «Запрещающие знаки», п. 10.2, примечание). В данном случае, управляя любым транспортным средством, Вы можете двигаться со скоростью до 100 км/ч, если при этом Вы не превысите максимальную скорость, определенную технической характеристикой транспортного средства (п. 10.4).

**11** Знак 3.24 «Ограничение максимальной скорости», установленный справа, распространяет свое действие на всю дорогу, а не только на правую полосу движения. Поэтому и на левой полосе

нельзя двигаться быстрее, чем 100 км/ч (См. комментарий к поз. 10).

**12** Знак 3.31 «Конец зоны всех ограничений» снимает ранее введенные запрещающими знаками ограничения — отменяет знак 3.24 «Ограничение максимальной скорости» (Прил. 1, «Запрещающие знаки»). Поэтому, находясь вне населенного пункта, Вы имеете право двигаться на легковом автомобиле со скоростью не более 90 км/ч, а на грузовом с разрешенной максимальной массой более 3,5 т — не более 70 км/ч.

**13** Знак 5.4 «Конец дороги для автомобилей» не меняет требований Правил, относящихся к скоростному режиму. Поэтому, продолжая движение вне населенного пункта, Вы можете развивать скорость на легковом автомобиле до 90 км/ч, а на грузовом с разрешенной максимальной массой более 3,5 т — до 70 км/ч (п. 10.3).

**14** Знак 3.24 «Ограничение максимальной скорости» обязывает водителей всех транспортных средств двигаться со скоростью не более 50 км/ч (Прил. 1, «Запрещающие знаки»).

**15** Зона действия знака 3.24 «Ограничение максимальной скорости» закончилась в месте примыкания второстепенной дороги, которая обозначена соответствующим знаком 2.3.2 «Примыкание второстепенной дороги» (Прил. 1, «Знаки приоритета»). Поэтому, продолжая движение вне населенного пункта, Вы можете развивать скорость на легковом автомобиле до 90 км/ч, а на грузовом с разрешенной максимальной массой более 3,5 т — до 70 км/ч.

**16** Вставка на знаке 5.8.3 «Начало полосы» ограничивает только минимальную скорость движения по второй полосе (знак 4.7 «Ограничение минимальной скорости»), при этом верхний предел допустимой скорости движения не снимается. Поэтому вне населенного пункта допустимая скорость движения на легковом автомобиле — 90 км/ч, на грузовом с разрешенной максимальной массой более 3,5 т — 70 км/ч (п. 10.3).

**17** Вы въезжаете в населенный пункт, обозначенный знаком 5.24 «Начало населенного пункта». Синий фон знака информирует Вас о том, что на данной дороге населенного пункта не действуют требования Правил, устанавливающие порядок движения в населенных пунктах (Прил. 1, «Информационно-указательные знаки»). Поэтому Вы можете продолжить движение на легковом автомобиле со скоростью до 90 км/ч, на грузовом с разрешенной максимальной массой более 3,5 т — до 70 км/ч (п. 10.3).

**18** На всех дорогах, примыкающих к дороге, обозначенной знаком 5.24 «Начало населенного пункта», действуют скоростные ограничения, установленные для населенных пунктов. Поэтому скорость Вашего движения не должна превышать 60 км/ч (п. 10.2, Прил. 1, «Информационно-указательные знаки»).

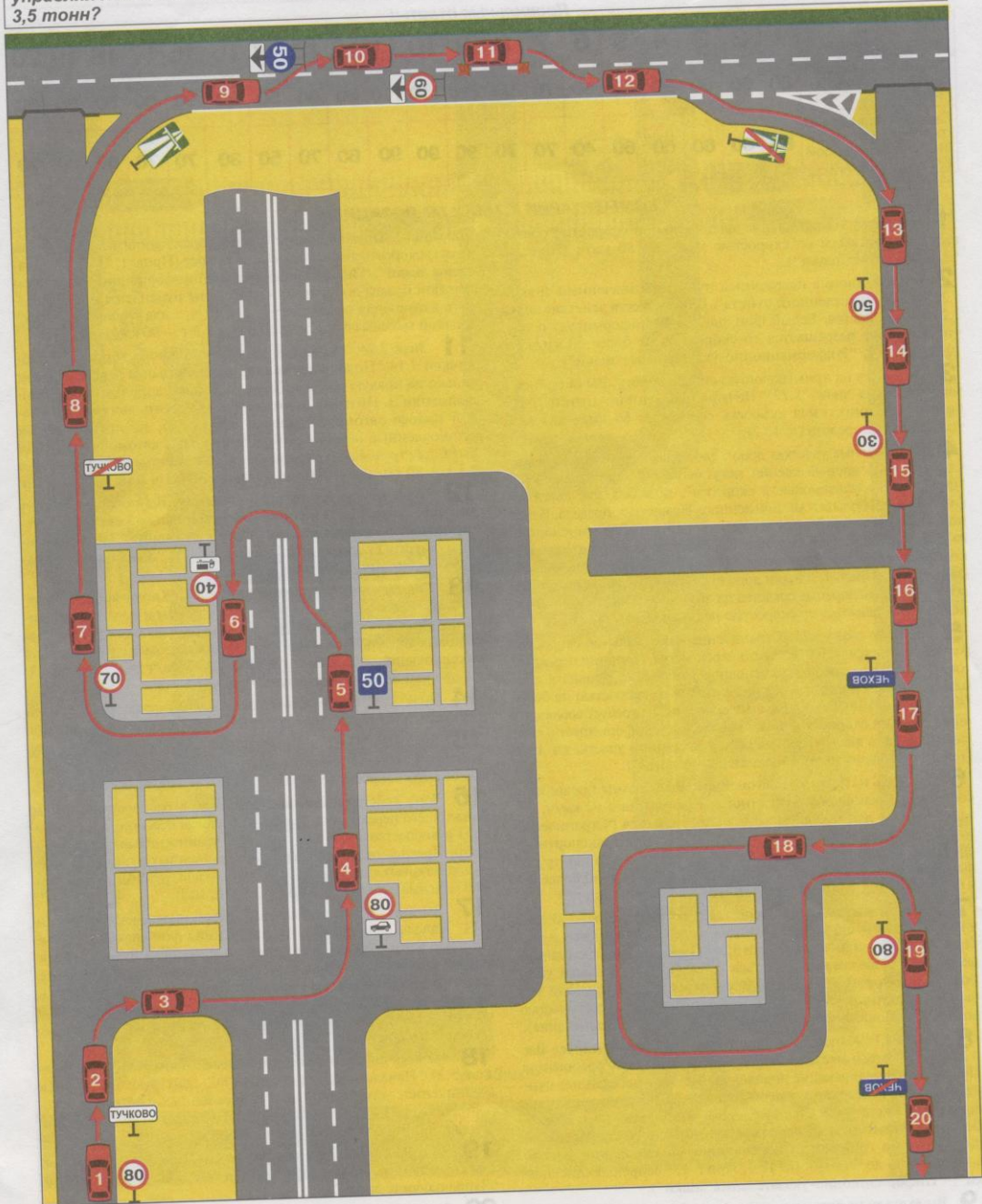
**19** Выехав из населенного пункта, Вы должны руководствоваться знаком 3.24 «Ограничение максимальной скорости», который разрешает движение для всех транспортных средств со скоростью не более 80 км/ч (Прил. 1, «Запрещающие знаки»). При этом Вы не должны превышать скорость, определенную технической характеристикой транспортного средства.

**20** Съехав с дороги, на которой установлен знак 3.24 «Ограничение максимальной скорости», Вы продолжаете движение по дороге вне населенного пункта. Здесь действуют общие скоростные ограничения, установленные вне населенных пунктов: для легковых автомобилей — 90 км/ч, для грузовых с разрешенной максимальной массой более 3,5 т — 70 км/ч (п. 10.3).



**Тест 22. СКОРОСТЬ ДВИЖЕНИЯ**

С какой предельно допустимой скоростью вы можете двигаться в каждой из указанных позиций, управляя легковым автомобилем или грузовым автомобилем с разрешенной массой более 3,5 тонн?



## Тест 22. СКОРОСТЬ ДВИЖЕНИЯ

Правильные ответы:

Позиции автомобилей	1	2	3	4	5	6	7	8	9	10	11	12	13	14	15	16	17	18	19	20
Скорость движения легкового автомобиля, км/ч	80	60	60	80	60	60	70	90	110	110	110	60	90	50	30	90	90	60	80	90
Скорость движения грузового автомобиля полной массой более 3,5 т, км/ч	80	60	60	60	60	40	70	70	90	90	90	60	70	50	30	70	70	60	80	70

## КОММЕНТАРИИ К ТЕСТУ ПО ПОЗИЦИЯМ:

**1** Знак 3.24 "Ограничение максимальной скорости" обязывает Вас двигаться со скоростью не более 80 км/ч (Прил. 1, "Запрещающие знаки").

**2** Вы въезжаете в населенный пункт, обозначенный знаком 5.22 "Начало населенного пункта". С этого места действие знака 3.24 прекращается. Белый фон знака 5.22 информирует о том, что движение разрешается со скоростью не более 60 км/ч (п. 10.2, Прил. 1, "Информационно-указательные знаки").

**3** Повернув на примыкающую справа дорогу, Вы остаетесь в зоне действия знака 5.22 "Начало населенного пункта", где предельная допустимая скорость составляет 60 км/ч для всех транспортных средств (п. 10.2).

**4** На отдельных участках дорог, где дорожные условия обеспечивают безопасность движения, могут быть установлены знаки 3.24 "Ограничение максимальной скорости", позволяющие двигаться со скоростью, большей установленного Правилами предела. В данной ситуации знак 3.24 вместе с табличкой 7.4.3 "Вид транспортного средства" допускает движение со скоростью 80 км/ч только легковым автомобилям и грузовым с разрешенной максимальной массой до 3,5 т (Прил. 1, "Знаки дополнительной информации"). Все остальные транспортные средства на этой дороге населенного пункта должны двигаться со скоростью не более 60 км/ч (п. 10.2).

**5** Действие знака 3.24 "Ограничение максимальной скорости" распространяется до ближайшего перекрестка. Миновав перекресток, Вы обязаны соблюдать основное требование Правил к движению в населенных пунктах — двигаться со скоростью не более 60 км/ч. Знак 5.18 "Рекомендуемая скорость" не требует соблюдать определенный скоростной режим — он лишь информирует о том, какая скорость является оптимальной на данном участке (п. 10.2, Прил. 1, "Информационно-указательные знаки").

**6** Двигаясь на легковом автомобиле, Вы обязаны продолжать соблюдение основного скоростного ограничения в 60 км/ч, установленного для населенного пункта. Знак 3.24 "Ограничение максимальной скорости" с табличкой 7.4.1 "Вид транспортного средства" устанавливает ограничение 40 км/ч только для грузовых автомобилей с разрешенной максимальной массой более 3,5 т (п. 10.2, Прил. 1, "Знаки дополнительной информации").

**7** На отдельных участках дорог, где дорожные условия обеспечивают безопасность движения, в том числе и в населенных пунктах, могут быть установлены знаки 3.24 "Ограничение максимальной скорости", позволяющие двигаться со скоростью, большей установленного Правилами предела. В данной ситуации, управляя любым транспортным средством, Вы можете двигаться со скоростью до 70 км/ч (Прил. 1, "Запрещающие знаки", п. 10.2, примечание).

**8** Знак 5.23 "Конец населенного пункта" информирует Вас о том, что с этого места на дороге утрачивают силу требования Правил, устанавливающие порядок движения в населенных пунктах, а также ранее установленный знак 3.24 "Ограничение максимальной скорости". Следовательно, вне населенного пункта Вы можете двигаться на легковом автомобиле со скоростью до 90 км/ч, а на грузовом с разрешенной максимальной массой более 3,5 т — до 70 км/ч (п. 10.3, Прил. 1, "Запрещающие знаки", "Информационно-указательные знаки").

**9** Вы въехали на автомагистраль (знак 5.1 "Автомагистраль"). Следовательно, на легковом автомобиле можете двигаться со скоростью до 110 км/ч, а на грузовом с разрешенной максимальной массой более 3,5 т — до 90 км/ч (п. 10.3).

**10** Знак 4.7 "Ограничение минимальной скорости" с таблич-

кой 7.14 "Полоса движения" устанавливает минимальную допустимую скорость движения по этой полосе (Прил. 1, "Предписывающие знаки", "Знаки дополнительной информации"). При этом верхний предел допустимой скорости не изменяется и для легкового автомобиля он составляет 110 км/ч, а для грузового с разрешенной максимальной массой более 3,5 т — 90 км/ч (п. 10.3).

**11** Знак 3.24 "Ограничение максимальной скорости" с табличкой 7.14 "Полоса движения" распространяет свое действие только на правую полосу (Прил. 1, "Знаки дополнительной информации"). Поэтому Вы можете продолжить движение по левой полосе автомагистрали со скоростью, не превышающей установленные ограничения: для легковых автомобилей — 110 км/ч, для грузовых с разрешенной максимальной массой более 3,5 т — 90 км/ч (п. 10.3), но не менее 50 км/ч (см. позицию 10).

**12** Перестроившись на правую полосу, Вы попадаете в зону действия знака 3.24 "Ограничение максимальной скорости", установленного с табличкой 7.14 "Полоса движения". Поэтому обязаны снизить скорость до 60 км/ч (Прил. 1, "Запрещающие знаки", "Знаки дополнительной информации").

**13** Съехав с автомагистрали (знак 5.2 "Конец автомагистрали"), Вы обязаны изменить скоростной режим и продолжить движение со скоростью, разрешенной вне населенных пунктов: для легковых автомобилей — до 90 км/ч, для грузовых с разрешенной максимальной массой более 3,5 т — до 70 км/ч (п. 10.3, Прил. 1, "Информационно-указательные знаки").

**14** Знак 3.24 "Ограничение максимальной скорости" (Прил. 1, "Запрещающие знаки") обязывает Вас снизить скорость до 50 км/ч.

**15** Знак 3.24 "Ограничение максимальной скорости" с другим значением скорости, отменяя предыдущее ограничение, обязывает Вас снизить скорость до 30 км/ч (Прил. 1, "Запрещающие знаки").

**16** Зона действия запрещающих знаков распространяется до ближайшего перекрестка. Поэтому, миновав перекресток, Вы должны руководствоваться скоростными ограничениями, установленными Правилами для движения вне населенных пунктов: 90 км/ч — для легковых автомобилей и 70 км/ч — для грузовых с разрешенной максимальной массой более 3,5 т (п. 10.3).

**17** Вы въезжаете в населенный пункт, обозначенный знаком 5.24 "Начало населенного пункта". Синий фон знака информирует Вас о том, что на этой дороге населенного пункта не действуют требования Правил, устанавливающие порядок движения в населенных пунктах (Прил. 1, "Информационно-указательные знаки"). Поэтому можно двигаться на легковом автомобиле со скоростью до 90 км/ч, а на грузовом с разрешенной максимальной массой более 3,5 т — до 70 км/ч (п. 10.3).

**18** На всех дорогах, примыкающих к дороге, где установлен знак 5.24 "Начало населенного пункта", действуют скоростные ограничения, установленные для населенных пунктов, — скорость движения не должна превышать 60 км/ч (п. 10.2, Прил. 1, "Информационно-указательные знаки").

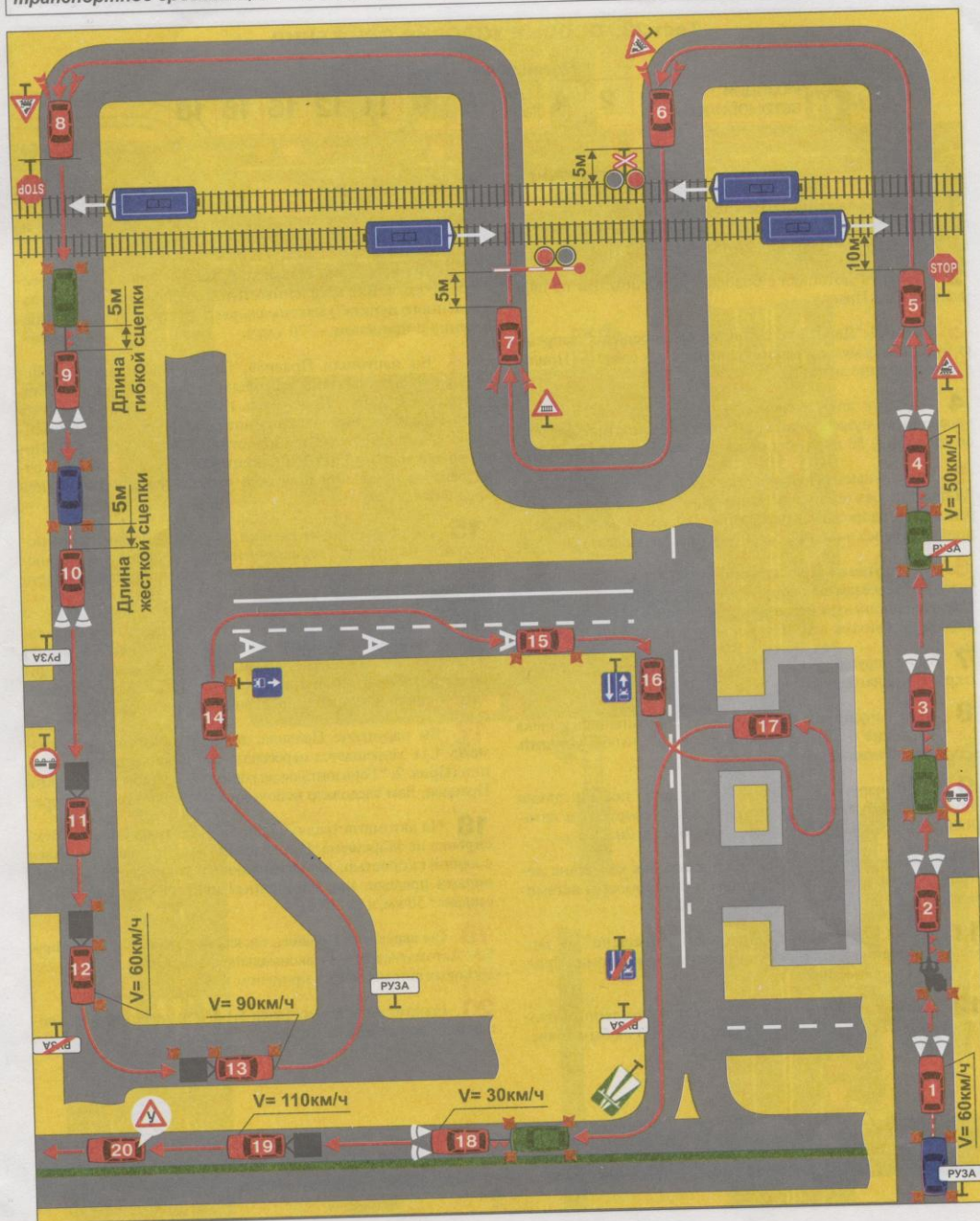
**19** Знак 3.24 "Ограничение максимальной скорости" обязывает Вас двигаться со скоростью не более 80 км/ч (Прил. 1, "Запрещающие знаки").

**20** Знак 5.25 "Конец населенного пункта" информирует Вас о том, что зона действия знака 3.24 "Ограничение максимальной скорости" заканчивается. Вы можете перейти на скоростной режим, установленный Правилами для движения вне населенных пунктов: для легковых автомобилей — до 90 км/ч, для грузовых с разрешенной максимальной массой более 3,5 т — до 70 км/ч (п. 10.3).



**Тест 23. ОСОБЫЕ УСЛОВИЯ ДВИЖЕНИЯ**  
Укажите позиции, в которых, управляя красным автомобилем, буксируя прицеп или механическое транспортное средство, вы не нарушаете Правила?

Тест 23. ОСОБЫЕ УСЛОВИЯ ДВИЖЕНИЯ  
Укажите позиции, в которых, управляя красным автомобилем, буксируя прицеп или механическое транспортное средство, вы не нарушаете Правила?



## Тест 23. ОСОБЫЕ УСЛОВИЯ ДВИЖЕНИЯ

Правильные ответы:

Позиции автомобилей	1	2	4	7	8	9	11	12	15	16	18
---------------------	---	---	---	---	---	---	----	----	----	----	----

## КОММЕНТАРИИ К ТЕСТУ ПО ПОЗИЦИЯМ:

- 1** Буксируя механическое транспортное средство в населенном пункте (знак 5.22 «Начало населенного пункта») со скоростью 60 км/ч, Вы не нарушаете п. 10.2 Правил.
- 2** Буксируя мотоцикл с боковым прицепом, Вы не нарушаете п. 20.3 Правил.
- 3** Знак 3.7 «Движение с прицепом запрещено» запрещает буксировку механических транспортных средств (Прил. 1, «Запрещающие знаки»).
- 4** Буксируя вне населенного пункта (знак 5.23 «Конец населенного пункта») механическое транспортное средство со скоростью 50 км/ч, Вы не нарушаете Правил (п. 10.3).
- 5** Вы нарушаете Правила, так как при наличии знака 2.5 «Движение без остановки запрещено», установленного перед железнодорожным переездом, Вы обязаны были остановиться перед знаком 2.5, а не за 10 м до переезда (п. 15.4).
- 6** Вы нарушили Правила, ибо, подъезжая к железнодорожному переезду, не оборудованному шлагбаумом (знак 1.2 «Железнодорожный переезд без шлагбаума»), Вы были обязаны остановиться в 10 м от первого рельса (п. 15.4).
- 7** Вы не нарушили п. 15.4 Правил, остановившись в 5 м от закрытого шлагбаума.
- 8** Вы не нарушили п. 15.4 Правил, остановившись у знака 2.5 «Движение без остановки запрещено», чтобы уступить дорогу приближающемуся поезду.
- 9** Вы не нарушили правил буксировки, так как длина гибкой сцепки между буксирующим и буксируемым автомобилями должна быть в пределах 4–6 м (п. 20.3).
- 10** Вы нарушаете правила буксировки, так как длина жесткой сцепки между буксирующим и буксируемым автомобилями должна быть не более 4 м (п. 20.3).
- 11** Знак 3.7 «Движение с прицепом запрещено» не запрещает движение легковым автомобилям с прицепами (Прил. 1, «Запрещающие знаки»).
- 12** Вы не нарушаете Правил, так как в населенном пункте (знак 5.22 «Начало населенного пункта») любым транспортным средствам движение разрешается со скоростью не более 60 км/ч (п. 10.2).
- 13** Вы нарушаете Правила, буксируя прицеп со скоростью 90 км/ч. Вне населенных пунктов (знак 5.23 «Конец населенного пункта») максимальная допустимая скорость движения с прицепом — 70 км/ч.
- 14** Вы нарушили Правила, так как, выполняя поворот направо, были обязаны завершить его в крайней правой полосе (п. 8.6, 2 абз.). При этом п. 18.2, 2 абз. Правил допускает при въезде на дорогу использовать полосу, предназначенную для маршрутных транспортных средств (знак 5.9 «Полоса для маршрутных транспортных средств»), если она отделена от остальной проезжей части прерывистой линией разметки.
- 15** Вы не нарушили Правил, перестроившись перед поворотом на полосу, предназначенную для маршрутных транспортных средств и отделенную от остальной проезжей части прерывистой линией разметки (п. 18.2, 2 абз.).
- 16** Вы не нарушили Правил, так как линия горизонтальной разметки 1.11 (Прил. 2, «Горизонтальная разметка») разрешает Вам на дороге, обозначенной знаком 5.10.1 «Дорога с полосой для маршрутных транспортных средств», въехать во двор со стороны прерывистой линии разметки.
- 17** Вы нарушаете Правила, так как горизонтальную разметку 1.11 запрещается пересекать со стороны сплошной линии (Прил. 2, «Горизонтальная разметка»). Чтобы не нарушить Правила, Вам следовало использовать другой выезд из двора.
- 18** На автомагистралях (знак 5.1 «Автомагистраль») буксировка не запрещена. При этом Вы имеете право двигаться с любой скоростью, не превышающей установленного Правилами предела. Вне населенных пунктов этот предел составляет 50 км/ч (п. 10.3).
- 19** Вы нарушаете Правила, так как на автомагистралях (знак 5.1 «Автомагистраль») максимальная допустимая скорость для легковых автомобилей с прицепом — 90 км/ч (п. 10.3).
- 20** На автомагистралях (знак 5.1 «Автомагистраль») учебная езда запрещена (п. 16.1).



ДЕПО

Слепой пешеход

10 11 12 13 14 15 16 17 18 19 20

5 6 7 8 9

1 2 3 4

## Тест 24. ОСОБЫЕ УСЛОВИЯ ДВИЖЕНИЯ

Правильные ответы:

Позиции автомобилей	1	2	4	5	12	13	14	15	16	17	18	19	20
---------------------	---	---	---	---	----	----	----	----	----	----	----	----	----

## КОММЕНТАРИИ К ТЕСТУ ПО ПОЗИЦИЯМ:

- 1** Вы обязаны уступить дорогу пешеходам, идущим к стоящему на остановке трамваю (знак 5.13 "Место остановки трамвая", п. 14.6).
- 2** Вне перекрестков Вы обязаны уступить дорогу трамваю, даже если он въезжает в депо (п. 18.1).
- 3** Водитель трамвая, выезжающий из депо, как и водители других транспортных средств, выезжающих с прилегающих территорий, обязаны уступить Вам дорогу. Вы имеете преимущество в движении (п. 18.1).
- 4** Вне перекрестков Вы обязаны уступать дорогу трамваю, пересекающему проезжую часть, по которой Вы движетесь (п. 18.1).
- 5** Двигаясь в населенном пункте, Вы обязаны уступить дорогу троллейбусу, отъезжающему от обозначенной остановки (знак 5.12 "Место остановки троллейбуса", п. 18.3).
- 6** Вы не обязаны уступать дорогу такси, отъезжающему от места, обозначенного разметкой 1.17 и знаком 5.15 "Место остановки такси", так как такси не относится к маршрутным транспортным средствам (п. 1.2, термин "Маршрутное транспортное средство").
- 7** Вы не обязаны уступать дорогу маршрутному такси, отъезжающему от тротуара в месте, не обозначенном знаком 5.14 "Место остановки автобуса" (п. 18.3).
- 8** Вы не должны уступать дорогу автобусу, отъезжающему от тротуара в месте, не обозначенном знаком 5.14 "Место остановки автобуса" (п. 18.3).
- 9** В данной ситуации Вы можете проехать пешеходный переход, так как не мешаете движению пешехода, находящегося на другой проезжей части (п. 1.2, термин "Уступите дорогу").
- 10** В данной ситуации при зеленом сигнале светофора Вы можете проехать регулируемый пешеходный переход (горизонтальная разметка 1.14.3). Однако следует убедиться в безопасности Вашего движения для пешехода.
- 11** На нерегулируемом пересечении велосипедной дорожки с дорогой (разметка 1.15 и знак 1.22 "Пересечение с велосипедной дорожкой"), расположенном вне перекрестка, Вы имеете преимущественное право на движение (п. 24.4). Однако Вам необходимо убедиться в безопасности Вашего движения для велосипедиста.
- 12** При съезде с дороги водитель обязан уступить дорогу не только пешеходам, но и велосипедистам, движущимся по велосипедной дорожке (п. 8.3, горизонтальная разметка 1.15, Прил. 2, "Дорожная разметка").
- 13** При въезде на дорогу с прилегающей территории водитель обязан уступить дорогу всем транспортным средствам, движущимся по ней, в том числе и велосипедистам на велосипедной дорожке (п. 8.3, горизонтальная разметка 1.15, Прил. 2, "Дорожная разметка").
- 14** Вы обязаны уступить дорогу пешеходу, переходящему проезжую часть по нерегулируемому пешеходному переходу (горизонтальная разметка 1.14.1, Прил. 2, "Дорожная разметка", п. 14.1).
- 15** Даже вне пешеходного перехода Вы обязаны уступить дорогу слепым пешеходам, подающим сигнал белой тростью (п. 14.5).
- 16** Выполняя левый поворот на перекрестке равнозначных дорог, Вы обязаны уступить дорогу встречным транспортным средствам, движущимся прямо (п. 13.12), в том числе и велосипедистам (п. 1.2, термин "Транспортное средство").
- 17** При отсутствии шлагбаума (знак 1.2 "Железнодорожный переезд без шлагбаума") при запрещающем сигнале светофора Вы обязаны остановиться перед железнодорожным переездом и уступить дорогу приближающемуся поезду (п. 15.3).
- 18** В жилой зоне (знак 5.38 "Жилая зона") пешеход имеет преимущество. Вы обязаны уступить дорогу пешеходу, переходящему проезжую часть (п. 17.1).
- 19** При выезде из жилой зоны (знак 5.39 "Конец жилой зоны") Вы обязаны уступить дорогу всем участникам движения, в том числе и велосипедистам (п. 17.3).
- 20** Вы обязаны остановиться перед железнодорожным переездом и уступить дорогу приближающемуся поезду (знак 1.2 "Железнодорожный переезд без шлагбаума") даже при горящем сигнале светофора.



## ОГЛАВЛЕНИЕ

Тесты 1, 2	Указатели поворотов .....	1—4
Тесты 3, 4.	Повороты .....	5—8
Тесты 5, 6.	Развороты .....	9—12
Тест 7.	Движение задним ходом .....	13, 14
Тесты 8, 9.	Сигналы светофора и регулировщика .....	15—18
Тесты 10, 11.	Регулируемые перекрестки .....	19—22
Тесты 12, 13.	Перекрестки равнозначных дорог .....	23—26
Тесты 14, 15.	Перекрестки неравнозначных дорог .....	27—30
Тесты 16, 17, 18.	Остановка и стоянка .....	31—36
Тесты 19, 20.	Обгон и встречный разъезд .....	37—40
Тесты 21, 22.	Скорость движения .....	41—44
Тесты 23, 24.	Особые условия движения .....	45—48

*Практическое пособие*

*Громоковский Геннадий Борисович  
Браудо Владимир Григорьевич*

### ТЕСТЫ НА ЗНАНИЕ ПРАВИЛ ДОРОЖНОГО ДВИЖЕНИЯ

Обложка художника *Н.И. Никашиной*  
Верстка *А.А. Савина*

Лицензия ЛР № 061843 от 27.11.97

Подписано в печать с готовых диапозитивов 14.07.98. Формат 60×88/8. Бумага  
офсетная. Печать офсетная. Усл. п. л. 5,88. Тираж 20000 экз. Заказ 3809. Цена  
свободная.

Издательство «За рулем» 107082, Москва, Бакунинская ул., 72

Отпечатано в Брянской областной типографии.  
241019, г. Брянск, пр-т Ст. Димитрова, 40.